

Adı :
Soyadı:

4. Sınıf
Sosyal Bilgiler

Yaşadığımız Yer
Yaprak Test-4

1- Aşağıdakilerden hangisi yön bulma yöntemlerinden biri değildir?

- A) Ağaç ve taşlardaki yosunlar
- B) Denizlerin dalgaları
- C) Cami minarelerinin kapısı
- D) Mezar taşları

2- Aşağıdaki görsellerden hangisi doğal unsurlara örnektir?

- A) 
- B) 
- C) 
- D) 

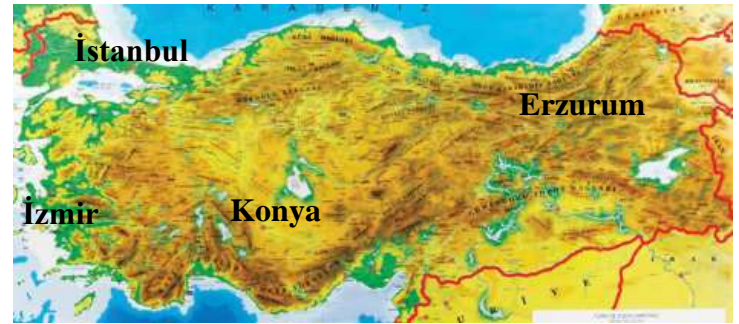
Hava tahmin durumunu önceden takip etmek birçok kişi ve meslek önemlidir. Buna göre gerekli tedbir alır ve zor duruma düşmez.

3- Aşağıdakilerden hangisi yukarıdaki paragraf için uygun bir örnek oluşturmaz?

- A) Fırtınalı havada denize açılan balıkçının teknesinin batması
- B) Karlı bir havada kar lastiğini takmayan sürücünün arabasının kayıp kaza yapması
- C) Soğuk bir havada ameliyat yapan doktorun hastaya zarar vermesi
- D) Bir çiftçinin tarlayı suladıktan sonra yağmur yağması



4- Aşağıdakilerden hangisi depremden önce almamız gereken tedbirlerden değildir?



- A) Deprem çantası hazırlanmalı.
- B) Ev eşyaları duvara sabitlenmeli.
- C) Deprem bilgi kartı hazırlanmalı.
- D) Çömel, kapan, tutun hareketleri yapılmalı.



5- Yukarıdaki ülkemize ait fiziki haritadan aşağıdaki ifadelerden hangisine ulaşamayız?

- A) İzmir'in nüfusu Erzurum'dan daha fazladır.
- B) İstanbul'un kuzeyi ve güneyi denizle çevrilidir.
- C) Konya'nın etrafında daha çok göl bulunur.
- D) Erzurum, İzmir'den daha dağlıktır.

| ŞEHİR | HAVA DURUMU |
|----------|---|
| İstanbul |  |
| Konya |  |

| ŞEHİR | HAVA DURUMU |
|---------|---|
| Antalya |  |
| Erzurum |  |

6- Yukarıdaki hava durumu tahminine göre aşağıdaki ifadelerden hangisi doğrudur?

- A) Erzurum'da hava çok soğuktur.
- B) İstanbul, Antalya'dan daha sıcaktır.
- C) İstanbul'da yollar buz tutmuştur.
- D) Konya'da yaz mevsimi yaşanmaktadır.

Adı :
Soyadı :

4. Sınıf Sosyal Bilgiler

Yaşadığımız Yer
Yaprak Test-4



HASTANE



ECZANE



MARKET



POSTANE



OKUL



AVM



PARK



STADYUM



BANKA

7- Yukarıdaki kroki için hangi bilgi doğrudur?

- A) Banka, hastanenin güneybatısındadır.
- B) Market, parkın kuzeybatısındadır.
- C) Stadyumun kuzeybatısında postane bulunur.
- D) Okulun güneydoğusunda park vardır.

| Beşeri Unsurlar | Doğal Unsurlar |
|-----------------|----------------|
| Köprü | Göl |
| Havaalanı | Şelale |
| Orman | Tepe |
| Fabrika | Hastane |

8- Yukarıdaki tabloda yapılan hata nasıl düzeltilir?

- A) Başlıklar yer değiştirilmeli
- B) Havaalanı ile şelale yer değiştirilmeli
- C) Fabrika ile göl yer değiştirilmeli
- D) Orman ile hastane yer değiştirilmeli

9- Hava olaylarını inceleyen bilim dalı aşağıdakilerden hangisidir?

- A) Meteoroloji
- B) Coğrafya
- C) Astroloji
- D) Sosyoloji

İnsanlar kendi ihtiyaçları için doğal ortama zarar verirler. Daha sonra ulaşamadıkları bu doğal ortamların benzerlerini kendisi yapmaya başlar.

10- Aşağıdakilerden hangisi yukarıdaki açıklamaya uymaz?

- A) Deniz → Havuz
- B) Vahşi yaşam → Hayvanat bahçesi
- C) Orman → Piknik alanı
- D) Mağara → Tünel

11- Enkaz altında kalan birisinin hangisini yapması doğru olmaz?

- A) Arada bir düdük öttürmesi
- B) Enkazdan kurtulmak için etrafındaki eşyaları hareket ettirmesi
- C) El fenerini ara sıra yakıp söndürmesi
- D) Yanındaki suyu çok susamadıkça içmemesi

- ❖ Ülkemizin pek çok yerinde yaşanma riski vardır.
- ❖ Çok hızlı ve ani olarak gelişir.
- ❖ En fazla can ve mal kaybına neden olan afettir.

12- Yukarıda özellikleri verilen doğal afet aşağıdakilerden hangisidir?

- A) Çiğ
- B) Sel
- C) Deprem
- D) Heyelan

13- Günlük hava durumunu aşağıdakilerden hangisinden öğrenemeyiz?

- A) Radyo
- B) İnternet
- C) Televizyon
- D) Ansiklopedi

Adı :
Soyadı:

4. Sınıf
Sosyal Bilgiler

Yaşadığımız Yer
Yaprak Test-4

Doğru :

Yanlış:.....

- 1 A B C D
2 A B C D
3 A B C D
4 A B C D
5 A B C D

- 6 A B C D
7 A B C D
8 A B C D
9 A B C D
10 A B C D

- 11 A B C D
12 A B C D
13 A B C D
14 A B C D
15 A B C D

- 16 A B C D
17 A B C D
18 A B C D
19 A B C D
2 A B C D