


Adı :
Soyadı:

4. Sınıf
Sosyal Bilgiler

Yaşadığımız Yer
Yaprak Test-6



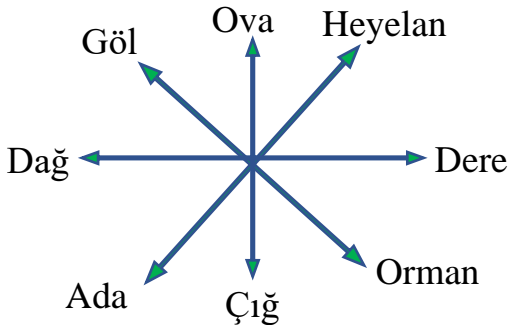
1- Yukarıdaki yön oklarına göre A noktası hangi yönü göstermektedir?

- A) Güneybatı B) Kuzeydoğu
C) Güneydoğu D) Kuzeybatı



2- Yukarıdaki fiziki haritada mavi renkle çizilmiş-boyanmış yerler aşağıdakilerden hangisi olamaz?

- A) Baraj B) Nehir
C) Göl D) Deniz



3- Yukarıdaki kavram haritasında verilenlerden kaç tanesi yer yüzü şeklidir?

- A) 4 B) 5 C) 6 D) 7



4- Yukarıdaki haritada Kuzey Kıbrıs Türk Cumhuriyeti gösterilmiştir. Harita için hangi bilgi yanlıştır?

- A) Yukarıdaki harita fiziki haritadır.
B) KKTC, Türkiye'nin güneyinde yer alır.
C) KKTC'de büyük göller vardır.
D) KKTC bir adanın üzerinde kurulmuştur.

Çar	Per	Cum	Cmt	Paz
30° 19°	28° 17°	27° 17°	28° 16°	28° 16°

5- Yukarıdaki hava durumu tahmin raporuna göre aşağıdakilerden hangisi yanlıştır?

- A) Hafta sonu iki gün güneşli ve açık geçecek.
B) Çarşamba günü hava ısısı en sıcak gündür.
C) Perşembe günü yağmurlu, Cuma günü karlı geçecek.
D) Çarşamba günü gündüz 30 derece, gece 19 derece olacak.

6- Aşağıdaki araçlardan hangisi meteorologlar tarafından kullanılan bir araç-alet değildir?

- A) Kilometre B) Barometre
C) Termometre D) Anemometre

Adı :
Soyadı:

4. Sınıf
Sosyal Bilgiler

Yaşadığımız Yer
Yaprak Test-6

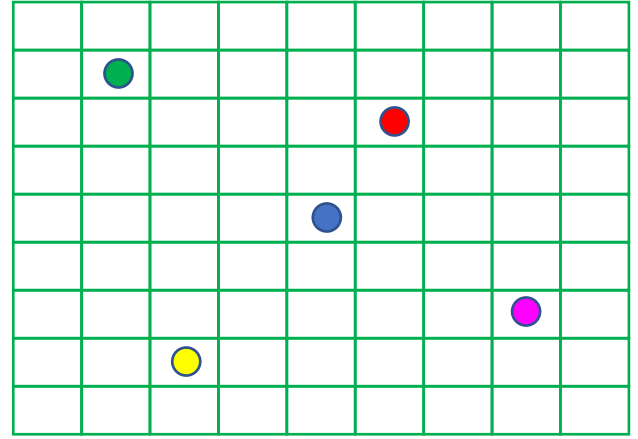
Kehanete göre krala, kızının 18 yaşına girdiğinde bir yılan tarafından sokularak öleceği söylenir. Bunun üzerine kral, denizin orta yerine bir kule inşa ederek çaresizce kızını buraya kapatır. Hatta yılan tehlikesine karşı birçok önlem alınır. Bir gün kralın kızı hastalanır, ateşlenir ve yataklara düşer. Bunun üzerine tüm hekimler seferber olur, ancak çare bulunamaz. En sonunda bir hekim, Kralın kızını iyileştirir ve Kral, o günü bayram ilan eder. Kutlamaların, ardı arkası kesilmez. Kuleye gönderilen üzüm sepeti hesaba katılmamıştır. Bu sepetin içinde küçük bir yılan vardır. Yılan, kralın kızını sokar. Kehanet çıkmış, kralın kızı ölmüştür.

7- Yukarıdaki efsanede geçen yer aşağıdakilerden hangisi olabilir?



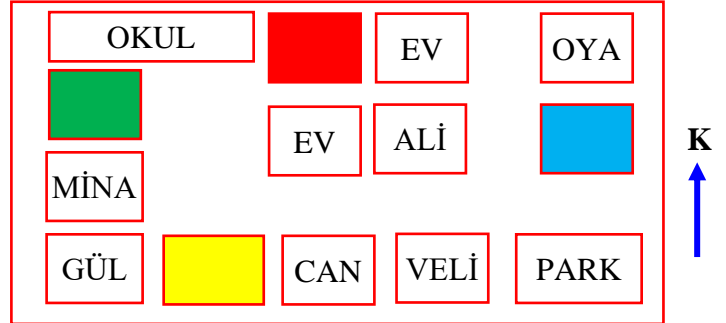
8- Ülkemizde hava olaylarını inceleyip halka televizyon ve internet yoluyla duyuru yapan kurum hangisidir?

- A) Türk Hava Yolları Genel Müdürlüğü
B) Meteoroloji Genel Müdürlüğü
C) Sivil Havacılık Müdürlüğü
D) Denizcilik ve Orman Bakanlığı



9- Ali yukarıdaki karesel alanlardan mavi karede durmaktadır. Ali sırasıyla 3 kare güneye, 4 kare doğuya, 5 kare kuzeye ve son olarak 3 kare batıya ilerlemiştir. Ali hangi noktaya ulaşmıştır?

- A) Kırmızı B) Yeşil
C) Sarı D) Pembe



10- Yukarıdaki krokide acil toplanma bölgesinin konumu için aşağıdaki bilgiler verilmiştir.

- Oya'nın evinin güneyinde değildir.
- Gül'ün evinin kuzeyinde değildir.
- Okulun doğusunda değildir.

Buna göre acil toplanma bölgesi hangi renk ile gösterilmiştir?

- A) Kırmızı B) Yeşil
C) Sarı D) Mavi

Adı :
Soyadı:

4. Sınıf
Sosyal Bilgiler

Yaşadığımız Yer
Yaprak Test-6

Doğru :.....

Yanlış:.....

- 1 A B C D
2 A B C D
3 A B C D
4 A B C D
5 A B C D

- 6 A B C D
7 A B C D
8 A B C D
9 A B C D
10 A B C D

- 11 A B C D
12 A B C D
13 A B C D
14 A B C D
15 A B C D

- 16 A B C D
17 A B C D
18 A B C D
19 A B C D
2 A B C D