

Adı :
Soyadı :

4. Sınıf Sosyal Bilgiler

Yaşadığımız Yer Yeni Nesil Sorular

	Pazartesi	Salı	Çarşamba	Perşembe	Cuma	Cumartesi	Pazar
İstanbul							
Antalya							
Kars							
Ankara							

Yanda bazı şehirlerdeki Aralık ayına ait bir haftalık hava durumu tahmin raporu verilmiştir. Buna göre aşağıdaki çıkarımlar yapılmıştır.

- I - Haftanın sadece bir gününde tüm illerde hava durumu aynı olacaktır.
II - Antalya, İstanbul'a göre daha sıcak geçecek.
III- Kars ilinde bu hafta güneş yüzünü göstermeyecek, ancak Ankara'da sadece bir gün güneşli geçecek.
IV - Bu hafta sadece bir şehirde yağmur yağacak.
V - İstanbul'da yaz mevsimi yaşanırken Kars ilinde kış mevsimi yaşanmaktadır.

Yukarıdaki çıkarımlardan hangileri doğrudur?

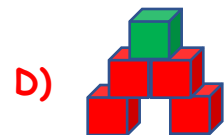
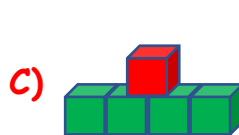
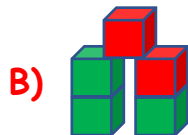
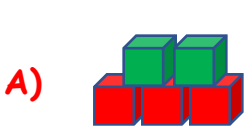
- A) I - II - III - IV B) II - IV - V C) I - II - III D) II - IV - V



Yandaki harita Ege Bölgesi'nin (renkli bölge) yeryüzü şekillerini göstermektedir. Haritaya göre Ege Bölgesi için aşağıdaki bilgiler verilmiştir. Doğru bilgilerin kutuları yeşil, yanlış bilgilerin kutuları kırmızı ile boyanıyor.

- Bölgede akarsuyu yoktur.
 İzmir'in etrafında dağlık alan çoktur.
 Bölgenin doğusu dağlık, batısı ovalıktır.
 Kıyıları çok fazla girintili çıkıntılıdır.
 Ege Bölgesi'nde, Akdeniz Bölgesi'nden daha fazla büyük göl vardır.

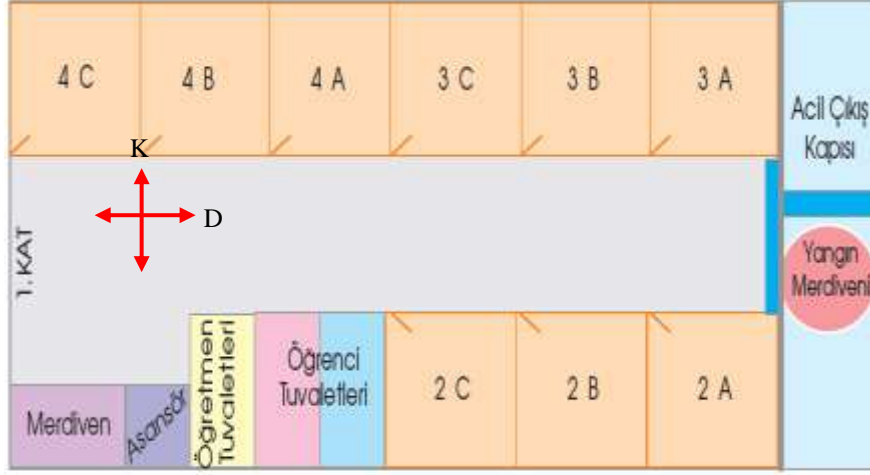
Yukarıdaki bilgilere boyalı kutularla hangi şekil yapılabilir?



Adı :
Soyadı :

4. Sınıf
Sosyal Bilgiler

Yaşadığımız Yer
Yeni Nesil Sorular



Çetin, yanda krokisi verilen Atatürk İlkokulu'nun 4/A sınıfı öğrencisidir. Aşağıdaki bilgilerden hangisi doğrudur? (Not: Yönler, öğrenciye göre değil krokiye göre olacak.)

- A) Çetin 3/A sınıfına gitmesi için sınıftan çıkınca batıya dönmelidir.
B) 3/C sınıfının doğusunda 3/B sınıfı, kuzeyinde 2/C sınıfı vardır.
C) Çetin 2. kata çıkmak için sınıftan çıkınca önce batıya sonra güneye doğru yürümelidir.
D) Çetin yangın durumunda sınıftan çıkınca batıya doğru yürüyerek okuldan çıkmalıdır.

	Sabah	Öğleden Sonra
Pazartesi		
Salı		
Çarşamba		
Perşembe		
Cuma		
Cumartesi		
Pazar		

Çetin ile Metin iki kardeştir. Çetin okula sabah giderken Metin ise öğleden sonra okula gitmektedir. Anneleri çocuklarını okula giderken hava durumuna bakarak giydirmektedir.

Yandaki tabloya göre aşağıdaki ifadelerden hangisi yanlıştır?

- A) İki kardeş de salı günü açık ve ince giyinirken perşembe günü yanlarına şemsiye almalıdır.
B) Metin pazartesi ve cuma günü aynı kıyafetle okula gidebilir.
C) Çetin cuma günü, Metin de salı günü aynı tür kıyafet giyebilirler.
D) Metin bu hafta daha çok ince ve açık kıyafetle giyerken Çetin ise daha çok kapalı ve kalın kıyafetler giymelidir.