





BÖLME İŞLEMİ




Aşağıdaki bölme işlemlerini yapıp istenilen bilgileri yazalım.


$$\begin{array}{r} 24 \overline{)6} \\ - \\ \hline \end{array}$$


Bölünen =
Bölen =
Bölüm =
Kalan =


$$\begin{array}{r} 56 \overline{)8} \\ - \\ \hline \end{array}$$


Bölünen =
Bölen =
Bölüm =
Kalan =


$$\begin{array}{r} 36 \overline{)9} \\ - \\ \hline \end{array}$$


Bölünen =
Bölen =
Bölüm =
Kalan =


$$\begin{array}{r} 42 \overline{)7} \\ - \\ \hline \end{array}$$


Bölünen =
Bölen =
Bölüm =
Kalan =


$$\begin{array}{r} 45 \overline{)5} \\ - \\ \hline \end{array}$$


Bölünen =
Bölen =
Bölüm =
Kalan =


$$\begin{array}{r} 24 \overline{)3} \\ - \\ \hline \end{array}$$


Bölünen =
Bölen =
Bölüm =
Kalan =


$$\begin{array}{r} 63 \overline{)7} \\ - \\ \hline \end{array}$$


Bölünen =
Bölen =
Bölüm =
Kalan =


$$\begin{array}{r} 32 \overline{)4} \\ - \\ \hline \end{array}$$

Bölünen =
Bölen =
Bölüm =
Kalan =


$$\begin{array}{r} 48 \overline{)6} \\ - \\ \hline \end{array}$$

Bölünen =
Bölen =
Bölüm =
Kalan =


$$\begin{array}{r} 35 \overline{)5} \\ - \\ \hline \end{array}$$

Bölünen =
Bölen =
Bölüm =
Kalan =