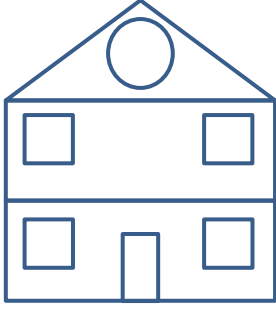


Adı : .....  
Soyadı: .....

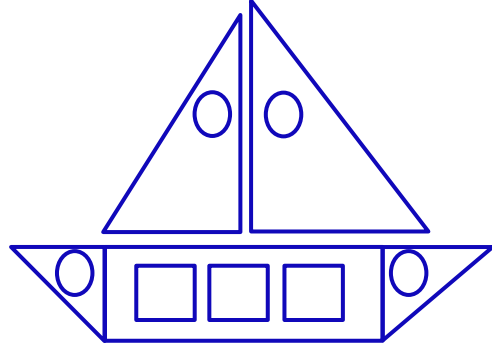
## 2. Sınıf Matematik

## Geometrik Şekiller-2

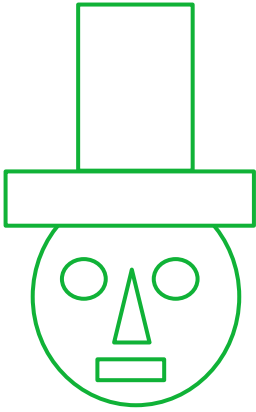
Aşağıdaki görsellerde hangi geometrik şekilden kaç tane olduğunu yazınız.



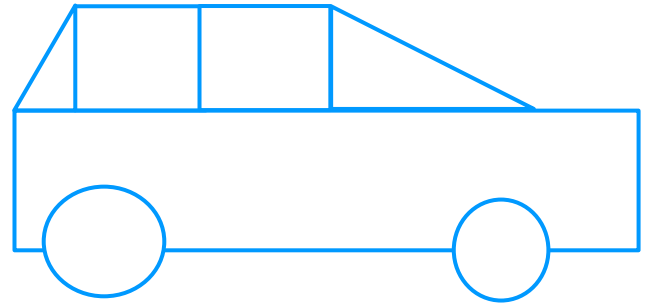
- .....tane çember (kırmızı)
- .....tane kare (mavi)
- .....tane dikdörtgen (sarı)
- .....tane üçgen (yeşil)



- .....tane çember (kırmızı)
- .....tane kare (mavi)
- .....tane dikdörtgen (yeşil)
- .....tane üçgen (sarı)



- .....tane çember (sarı)
- .....tane kare (mavi)
- .....tane dikdörtgen (kırmızı)
- .....tane üçgen (yeşil)




- .....tane çember (yeşil)
- .....tane kare (mavi)
- .....tane dikdörtgen (sarı)
- .....tane üçgen (kırmızı)

Adı : .....  
Soyadı: .....

## 2. Sınıf Matematik

## Geometrik Şekiller-2

Aşağıdaki aynı renk noktaları birleştiriniz. Köşeden köşeye kenarları çiziniz.



Aşağıdaki izometri kâğıtta geometrik şekiller oluşturunuz.

