

Adı : .....

Soyadı: .....




## 2. Sınıf Matematik

## Geometrik Şekiller Yaprak Test-1




1 Aşağıdaki geometrik şekillerden hangisinin hem kenarı hem de köşesi yoktur?

- (A)  (B)  (C) 




2 Aşağıdakilerden hangisi üçgen değildir?

- (A)  (B)  (C) 

3 Aşağıdakilerden hangisinin kenar sayısı diğerlerinden daha fazladır?

- (A)  (B)  (C) 

4 Aşağıdakilerden hangisi dikdörtgen değildir?

- (A)  (B)  (C) 



5 Yukarıdaki varil hangi geometrik cisme benzemektedir?

- (A) Kare prizması  
(B) Silindir  
(C) Daire Prizması



6 Dünyamızın şekli aşağıdakilerden hangisine benzemektedir?

- (A) Daire  
(B) Çember  
(C) Küre

7 Aşağıdaki görsellerden hangisi üçgen prizmaya benzemektedir?

- (A)  (B)  (C) 

Adı : .....

Soyadı: .....

## 2. Sınıf Matematik

## Geometrik Şekiller Yaprak Test-1

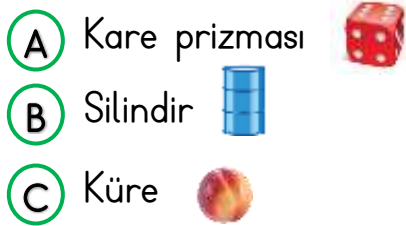
8 Aşağıdakilerden hangisi bir prizma şeklinde değildir?



9 Aşağıdakilerden hangisi küpe benzemektedir?



10 Aşağıdaki eşleştirmelerden yanlış olanı hangisidir?



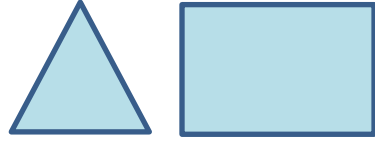
11 Aşağıdaki bilgilerden hangisi doğrudur?

- (A) Karenin bütün kenarları eşittir.  
(B) Çemberin 1 kenarı ve köşesi vardır.  
(C) Üçgenin 3 köşesi, 4 kenarı vardır.

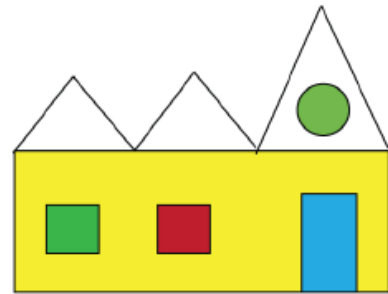
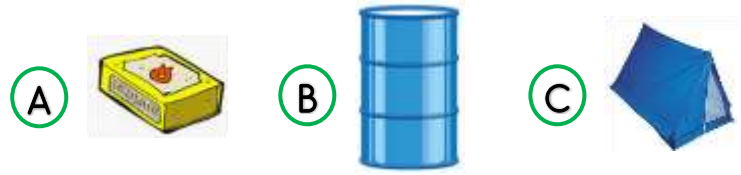


12 Yukarıdaki geometrik şekillerin toplam kaç kenarı vardır?

- (A) 10 (B) 11 (C) 12



13 Yukarıdaki geometrik şekiller kullanılarak hangi nesne yapılabilir?



14 Yukarıdaki görsel için aşağıdakilerden hangisi söylenemez?

- (A) 2 tane kare vardır.  
(B) Üçgenlerin sayısı çemberden çoktur.  
(C) Sadece 1 tane dikdörtgen vardır.