

Adı :

Soyadı:


2. Sınıf Matematik

Geometrik Şekiller Yaprak Test-2

1 Aşağıdaki varlıklardan hangisi geometrik şekil bakımından diğerlerinden farklıdır?




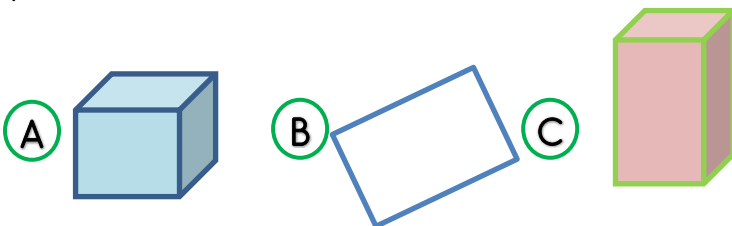
2 Aşağıdakilerden hangisi köşe sayısı diğerlerinden farklıdır?



3 Aşağıdaki yapılardan hangisi silindire benzememektedir?




4 Aşağıdakilerden hangisi dikdörtgen prizmasıdır?



5 Yukarıdaki 1-6-8-5 rakamlarını birleştirdiğimizde ortaya çıkan geometrik şekil hangisidir?


- (A) Kare prizması
(B) Dikdörtgen
(C) Kare



6 Yukarıdaki geometrik şekillerin isimleri sırası ile hangisinde doğru yazılmıştır?

- (A) Daire-Küre-Çember
(B) Çember-Küre-Daire
(C) Çember-Daire-Küre

7 Aşağıdaki görsellerden hangisi küp şeklinde değildir?

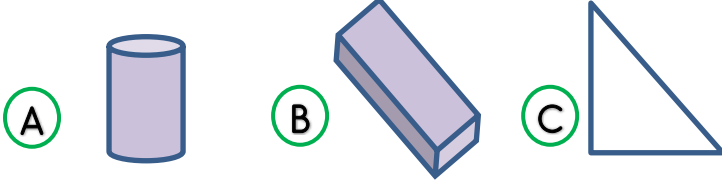


Adı :
Soyadı:


2. Sınıf Matematik

Geometrik Şekiller Yaprak Test-2

8 Aşağıdakilerden hangisi bir prizma şeklinde değildir?



9 Aşağıdaki varlıklardan hangisini kullanarak kağıdın üzerine çember çizebiliriz?



10 Aşağıdaki bilgilerden hangisi yanlıştır?

- (A) Üçgenin 3 köşesi vardır.
(B) Küpün 4 köşesi vardır.
(C) Dikdörtgenin 4 kenarı vardır.

11 Aşağıdaki bilgilerden hangisi doğrudur?

- (A) Dikdörtgenin 2 kenarı uzundur.
(B) Kürenin bir kenarı vardır.
(C) Üçgen prizmasında 4 tane üçgen vardır.

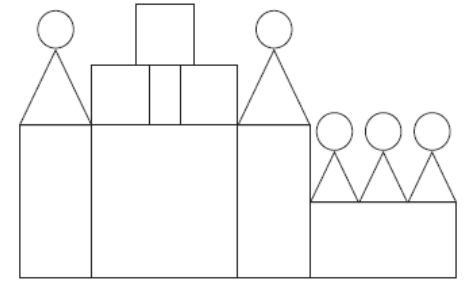


12 Yukarıdaki geometrik şekillerin toplam kaç köşesi vardır?

- (A) 10 (B) 11 (C) 12



13 Yukarıdaki geometrik şekillerin hepsini kullanarak hangi nesneye benzer bir şekil yapılabilir?



14 Yukarıdaki görsel için aşağıdakilerden hangisi söylenemez?

- (A) 3 tane kare vardır.
(B) 6 tane dikdörtgen vardır.
(C) Üçgenlerin ve çemberlerin sayısı eşittir.