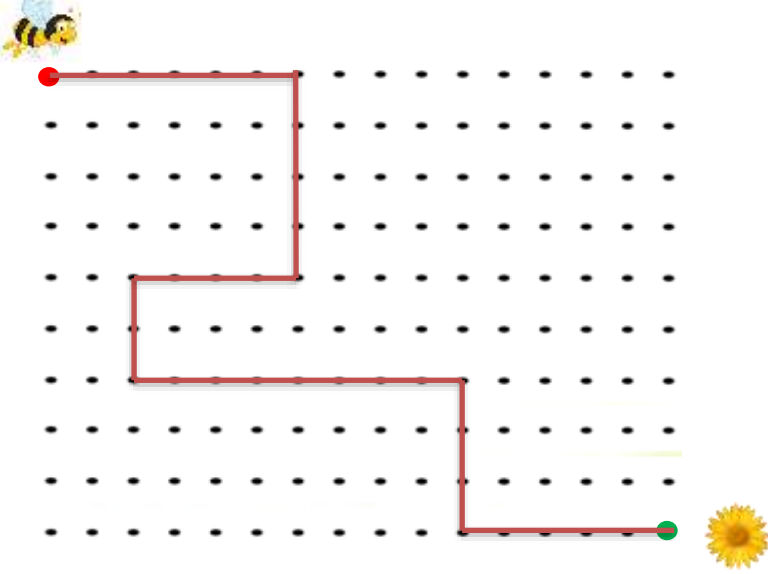


Adı :
Soyadı:

2. Sınıf Matematik

Uzamsal İlişkiler-2

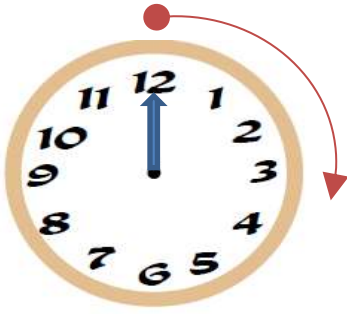
Arıyı çiçeğe ulaştırmak için yolu takip ederek örneğe göre yönerge yazınız.



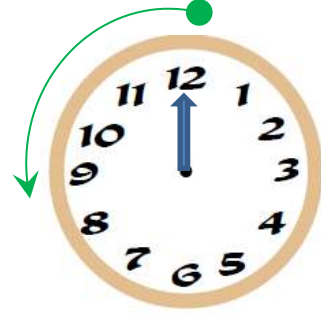
6 nokta sağa

.....
.....
.....
.....
.....
.....

Çocuğu dönüş yönüne göre hangi nesnelere karşılaştığını sırasıyla yazınız.



Saat yönü dönüş



Saat ters dönüş

Saat Yönünde

.....
.....
.....
.....
.....
.....
.....
.....



Saatın Ters Yönünde

.....
.....
.....
.....
.....
.....
.....
.....

Adı :
Soyadı:

2. Sınıf Matematik

Uzamsal İlişkiler-2

Çocuğun yönüne göre soruları cevaplayınız.



Çocuğun arkasında.....

Çocuğun sağında.....

Çocuğun solunda.....

Çocuk saat yönünde etrafında dönerse sıra ile

Çocuk saatin ters yönünde etrafında dönerse sıra ile


Kedinin arkasında.....

Kedinin sağında.....

Kedinin solunda.....

Kedi saat yönünde etrafında dönerse sıra ile

Kedi saatin ters yönünde etrafında dönerse sıra ile



Varlıkların duruş yönlerine göre soruları cevaplandırınız.



Kız çocuğun ilerisinde..... Koyunun ilerisinde.....

Arabanın gerisinde..... Polis arabasının 4 gerisinde.....

Köpeğin 3 ilerisinde..... Kızın 5 gerisinde.....

Koşan çocuğun gerisinde..... Koşan çocuğun 2 ilerisinde.....