



Adı :
Soyadı:

1. Sınıf
Matematik

Uzamsal İlişkiler-3

Aşağıdaki yönergeye göre tabloyu tamamlayınız.

1- Arabanın üstüne elma çiziniz.

2-Balonun sağına kalem çiziniz.

3-Elmanın soluna balık çiziniz.

4- Balığın altına ağaç çiziniz.

5-Kalemin sağına yıldız çiziniz.

6-Yıldızın altına kelebek çiziniz.

7-Elmanın sağına ev çiziniz.

8- Ağacın soluna top çiziniz.

9- Kelebeğin sağına çiçek çiziniz.

10-Balığın soluna muz çiziniz

11-Yıldızın sağına bulut çiziniz.

12-Balonun altına uçak çiziniz.

13-Arabanın sağına bayrak çiziniz.

14-Kelebeğin soluna güneş çiziniz.

Kalemin solunda

Güneşin üstünde.....

Kelebeğin sağında.....

Uçağın üstünde.....

Yıldızın sağında.....

Bayrağın solunda.....

Topun sağında.....

Balığın sağında.....

Güneşin solunda.....

Bulutun altında.....

Ağacın sağında.....

Arabanın solunda.....

Evin solunda.....


Balonun üstünde.....

Adı :
Soyadı:

1. Sınıf Matematik

Uzamsal İlişkiler-3

Arıyı çiçeğe ulaştıralım. Gittiği kareleri boyayalım.



* 3 kare sağa gidiniz.

*2 kare aşağı ininiz.

*3 kare sola gidiniz.

*2 kare aşağıya ininiz.

*6 kare sağa gidiniz.

Labirent bulmacaları çözelim. Gidiş yönlerini sırası ile anlatınız.

