

1

Her birinde **52** adet kalem olan kutulardan **6** kutu aldım. Kalemlerden **148** tanesini sattım. Geriye kaç kalem kaldı?

2

Bir çiftlikte **38** inek ve **67** tavuk vardır. Çiftlikteki hayvanların ayak sayıları toplamı kaçtır?

GÜNÜN KISA **HİKÂYESİ** (UYDUR, UYDUR, YAZ)

baklava

GÜNÜN 4 İŞLEM ALIŞTIRMALARI

$$\begin{array}{r} 159 \\ +822 \\ \hline \end{array} \quad \begin{array}{r} 457 \\ +136 \\ \hline \end{array}$$

$$\begin{array}{r} 485 \\ -395 \\ \hline \end{array} \quad \begin{array}{r} 778 \\ -449 \\ \hline \end{array}$$

$$\begin{array}{r} 41 \\ \times 16 \\ \hline \end{array} \quad \begin{array}{r} 19 \\ \times 36 \\ \hline \end{array}$$

$$71 \overline{)4} \quad 33 \overline{)5}$$

EŞ ANLAMINI YAZ – CÜMLE KUR

öğretmen	→		→	
öykü	→		→	
konuk	→		→	
vakit	→		→	
elbise	→		→	
hızlı	→		→	
lider	→		→	

1

Ali her hafta **24** lira biriktiriyor.
Buna göre Ali'nin **2** ayda biriktirdiği
paranın **89** eksiği kaçtır?

2

20'ye yuvarlanan en büyük sayı ile
90'a yuvarlanan en küçük sayının
çarpımı kaçtır?

GÜNÜN KISA **HİKÂYESİ** (UYDUR, UYDUR, YAZ)

anahtar

GÜNÜN 4 İŞLEM **ALİŞTİRMALARI**

$$\begin{array}{r} 409 \\ + 253 \\ \hline \end{array}$$

$$\begin{array}{r} 397 \\ + 182 \\ \hline \end{array}$$

$$\begin{array}{r} 621 \\ - 345 \\ \hline \end{array}$$


$$\begin{array}{r} 718 \\ - 471 \\ \hline \end{array}$$

$$\begin{array}{r} 48 \\ \times 3 \\ \hline \end{array}$$

$$\begin{array}{r} 26 \\ \times 5 \\ \hline \end{array}$$

$$\begin{array}{r} 86 \\ \overline{) 3} \\ \hline \end{array}$$

$$\begin{array}{r} 76 \\ \overline{) 4} \\ \hline \end{array}$$

BAKARAK AYNISINI **ÇİZ – BOYA**

1

Ben **16** yaşındayım. Annemin yaşı benim yaşımın **4** katından **12** eksiktir. Buna göre annemin yaşı ile benim yaşımın toplamı kaçtır?

2

Bir bakkal, tanesi **25** kg olan un çuvallarından **1** düzine aldı. Unların **176** kilogramını sattı. Geriye kaç kg un kaldı?

GÜNÜN KISA **HİKÂYESİ** (UYDUR, UYDUR, YAZ)

hediye

GÜNÜN 4 İŞLEM **ALİŞTİRMALARI**

$$\begin{array}{r} 329 \\ + 68 \\ \hline \end{array}$$

$$\begin{array}{r} 280 \\ + 70 \\ \hline \end{array}$$

$$\begin{array}{r} 100 \\ - 23 \\ \hline \end{array}$$

$$\begin{array}{r} 517 \\ - 99 \\ \hline \end{array}$$

$$\begin{array}{r} 45 \\ \times 12 \\ \hline \end{array}$$

$$\begin{array}{r} 68 \\ \times 5 \\ \hline \end{array}$$

$$\begin{array}{r} 90 \\ \underline{4} \\ \hline \end{array}$$

$$\begin{array}{r} 86 \\ \underline{2} \\ \hline \end{array}$$

AKROSTİŞ ZAMANI

A

İ

L

E

O

K

U

L

1

8-1-5-7 rakamları birer kez kullanılarak oluşacak iki basamaklı en büyük **çift** sayının **12** katı kaçtır?

2

Bizim sınıfta **9** sıra vardır. Her sıraya **3** kişi oturursa **5** öğrenci ayakta kalmaktadır. Buna göre sınıfta kaç öğrenci vardır?

GÜNÜN KISA **HİKÂYESİ** (UYDUR, UYDUR, YAZ)

ilaç

GÜNÜN 4 İŞLEM **ALIŞTIRMALARI**

$$\begin{array}{r} 644 \\ + 109 \\ \hline \end{array}$$

$$\begin{array}{r} 155 \\ + 156 \\ \hline \end{array}$$

$$\begin{array}{r} 309 \\ - 145 \\ \hline \end{array}$$

$$\begin{array}{r} 718 \\ - 254 \\ \hline \end{array}$$

$$\begin{array}{r} 86 \\ \times 3 \\ \hline \end{array}$$

$$\begin{array}{r} 32 \\ \times 13 \\ \hline \end{array}$$

$$59 \overline{) 2}$$

$$90 \overline{) 3}$$

ALFABETİK SIRAYA GÖRE SIRALA

kardeş	1	
zeytin	2	
hediye	3	
benzin	4	
fener	5	

1	
2	
3	
4	
5	

damat	1	
şarkı	2	
gitar	3	
dosya	4	
şeker	5	

1	
2	
3	
4	
5	

yardım	1	
asker	2	
yara	3	
askı	4	
yarım	5	

1	
2	
3	
4	
5	

1

Ben her gün **14** sayfa kitap okurum.
1 hafta kitap okursam geriye
 okunacak **148** sayfa kalıyor. Kitabım
 kaç sayfadır?

2

Her ay **56** lira ödeyecek şekilde **6**
 taksitle telefon aldım. **2** taksit ödedim.
 Geriye ödenecek kaç lira borcum kaldı?

GÜNÜN KISA **HİKÂYESİ** (UYDUR, UYDUR, YAZ)

otobüs

GÜNÜN 4 İŞLEM **ALİŞTİRMALARI**

$$\begin{array}{r} 428 \\ + 229 \\ \hline \end{array}$$

$$\begin{array}{r} 507 \\ + 208 \\ \hline \end{array}$$

$$\begin{array}{r} 414 \\ - 215 \\ \hline \end{array}$$

$$\begin{array}{r} 602 \\ - 333 \\ \hline \end{array}$$

$$\begin{array}{r} 52 \\ \times 5 \\ \hline \end{array}$$

$$\begin{array}{r} 16 \\ \times 13 \\ \hline \end{array}$$

$$98 \overline{) 4}$$

$$39 \overline{) 3}$$

İKİ **RESİM** ARASINDAKİ **10** FARKI BUL

1

Okulumuzda **270** öğrenci vardır.
Erkek öğrenci sayısı **192** ise kız
öğrenci sayısının **4** katı kaçtır?

2

XIX + XVII işleminin sonucunun
9 katı kaçtır?

GÜNÜN KISA **HİKÂYESİ** (UYDUR, UYDUR, YAZ)

kelebek

GÜNÜN 4 İŞLEM **ALİŞTİRMALARI**

$$\begin{array}{r} 292 \\ + 283 \\ \hline \end{array}$$

$$\begin{array}{r} 307 \\ + 247 \\ \hline \end{array}$$

$$\begin{array}{r} 505 \\ - 209 \\ \hline \end{array}$$

$$\begin{array}{r} 928 \\ - 234 \\ \hline \end{array}$$

$$\begin{array}{r} 22 \\ \times 5 \\ \hline \end{array}$$

$$\begin{array}{r} 18 \\ \times 11 \\ \hline \end{array}$$

$$\begin{array}{r} 80 \overline{)10} \\ \hline \end{array}$$

$$\begin{array}{r} 50 \overline{)9} \\ \hline \end{array}$$

İSTENEN **BİLGİLERİ** YAZ

Cümleler	Harf Sayısı	Hece Sayısı	Kelime Sayısı
Kedi ağaca çıktı.	→		
Çetin fırından ekmek aldı.	→		
Ayşe etek giymiş.	→		
Kitap okuyorum.	→		
Bitirdim.	→		
Ben okulumu çok seviyorum.	→		

1

Bir basamaklı en büyük **çift** sayının
1 düzine fazlasının **7** katı kaçtır?

2

Ben **17** yaşındayım. Dedemin yaşı
benim yaşımın **3** katından **11** fazladır.
Buna göre **3** sene önce yaşlarımız
toplamı kaçtı?

GÜNÜN KISA **HİKÂYESİ** (UYDUR, UYDUR, YAZ)

ayakkabı

GÜNÜN 4 İŞLEM **ALIŞTIRMALARI**

$$\begin{array}{r} 215 \\ 176 \\ + 93 \\ \hline \end{array} \quad \begin{array}{r} 357 \\ + 159 \\ \hline \end{array} \quad \begin{array}{r} 928 \\ - 275 \\ \hline \end{array} \quad \begin{array}{r} 351 \\ - 43 \\ \hline \end{array} \quad \begin{array}{r} 25 \\ \times 10 \\ \hline \end{array} \quad \begin{array}{r} 39 \\ \times 13 \\ \hline \end{array} \quad \begin{array}{r} 47 \\ \underline{\quad} \\ \hline \end{array} \quad \begin{array}{r} 5 \\ \underline{\quad} \\ \hline \end{array} \quad \begin{array}{r} 90 \\ \underline{\quad} \\ \hline \end{array} \quad \begin{array}{r} 10 \\ \underline{\quad} \\ \hline \end{array}$$

ZİT ANLAM BULMACASI

sabah	→	
çalışkan	→	
pahalı	→	
zengin	→	
hayır	→	
kapalı	→	
savaş	→	
yumuşak	→	
korkak	→	


u	c	b	a	r	ı	ş	k	a	t
m	p	o	t	e	m	b	e	l	ü
a	ç	ı	k	a	z	b	v	o	n
k	r	b	e	m	s	e	r	t	e
ç	a	s	v	a	y	n	a	h	ş
e	k	i	e	l	f	a	k	i	r
f	ş	g	t	ı	l	ğ	e	c	e
p	a	u	m	c	e	s	u	r	p
i	m	a	r	k	d	u	c	u	z

1

Kilosu **38** TL olan muzdan **4** kilo aldım. **200** TL para verdim. Para üstüm ne kadardır?

2

Ben **2** deste fındık yedim. Arif'in yediği fındık benim yediğimin **5** katıdır. İkimiz toplam kaç fındık yedik?

GÜNÜN KISA **HİKÂYESİ** (UYDUR, UYDUR, YAZ)

bayrak

GÜNÜN 4 İŞLEM **ALIŞTIRMALARI**

308

226

+ 262

397

+ 29

487

- 235

500

- 258

48

x 10

26


x 5

82

3

100

10

BAKARAK AYNISINI **ÇİZ – BOYA**

1

Bir kitaplıkta **7** raf bulunmaktadır.
Her rafta **18** kitap olduğuna göre bu
kitaplıkta kaç kitap vardır?

2

Kilosu **47** TL olan pirinçten **3** kilo ve
kilosu **24** lira olan bulgurdan **6** kilo
alırsam kaç TL para ödemem gerekir?

GÜNÜN KISA **HİKÂYESİ** (UYDUR, UYDUR, YAZ)

Atatürk

GÜNÜN 4 İŞLEM **ALİŞTİRMALARI**

$$\begin{array}{r} 394 \\ + 168 \\ \hline \end{array}$$

$$\begin{array}{r} 472 \\ + 288 \\ \hline \end{array}$$

$$\begin{array}{r} 610 \\ - 334 \\ \hline \end{array}$$

$$\begin{array}{r} 575 \\ - 353 \\ \hline \end{array}$$

$$\begin{array}{r} 94 \\ \times 10 \\ \hline \end{array}$$

$$\begin{array}{r} 56 \\ \times 3 \\ \hline \end{array}$$

$$\begin{array}{r} 86 \\ \times 2 \\ \hline \end{array}$$

$$\begin{array}{r} 59 \\ \times 5 \\ \hline \end{array}$$

AKROSTİŞ ZAMANI

P

A

R

A

K

İ

T

A

P

1

Her ay **5** kez sinemaya giden Aslı, **2** yılda kaç kez sinemaya gitmiş olur?

2

Bir **kasap** her gün, bir önceki günden **26** kg eksik et satmaktadır. Bu kasap ilk gün **210** kg et sattığına göre **5. gün** kaç kg et satmıştır?

GÜNÜN KISA **HİKÂYESİ** (UYDUR, UYDUR, YAZ)

aslan

GÜNÜN 4 İŞLEM **ALİŞTİRMALARI**

$$\begin{array}{r} 409 \\ + 126 \\ \hline \end{array}$$

$$\begin{array}{r} 394 \\ + 292 \\ \hline \end{array}$$

$$\begin{array}{r} 516 \\ - 267 \\ \hline \end{array}$$


$$\begin{array}{r} 754 \\ - 363 \\ \hline \end{array}$$

$$\begin{array}{r} 56 \\ \times 12 \\ \hline \end{array}$$

$$\begin{array}{r} 84 \\ \times 6 \\ \hline \end{array}$$

$$\begin{array}{r} 79 \\ \overline{) 3} \end{array}$$

$$\begin{array}{r} 92 \\ \overline{) 4} \end{array}$$

İKİ **RESİM** ARASINDAKİ 7 FARKI BUL

1

Yeni açılan bir fırın ilk gün **136** ekmek, ikinci gün ise ilk günden **79** fazla ekmek satmıştır. Fırın iki günde toplam kaç ekmek satmıştır?

2

6, 5, 0, 8 rakamlarını birer kez kullanarak oluşturulabilecek üç basamaklı en büyük tek sayı ile üç basamaklı en küçük çift sayının farkı kaçtır?

GÜNÜN KISA **HİKÂYESİ** (UYDUR, UYDUR, YAZ)GÜNÜN 4 İŞLEM **ALİŞTİRMALARI**

$$\begin{array}{r} 591 \\ + 305 \\ \hline \end{array}$$

$$\begin{array}{r} 437 \\ + 193 \\ \hline \end{array}$$

$$\begin{array}{r} 608 \\ - 394 \\ \hline \end{array}$$

$$\begin{array}{r} 428 \\ - 399 \\ \hline \end{array}$$

$$\begin{array}{r} 65 \\ \times 5 \\ \hline \end{array}$$

$$\begin{array}{r} 72 \\ \times 10 \\ \hline \end{array}$$

$$\begin{array}{r} 80 \\ \times 3 \\ \hline \end{array}$$

$$\begin{array}{r} 120 \\ \times 10 \\ \hline \end{array}$$

İSİM – **ŞEHİR** OYUNU

HARF	İSİM	ŞEHİR	BİTKİ	HAYVAN	EŞYA	ÜLKE
S						
R						
H						
T						
A						

1

Ben **9** yaşındayım. Annem benden **25** yaş büyüktür. Dedemin yaşı annemin yaşının **2** katıdır. Dedem kaç yaşındadır?

2

Bir satıcı tanesini **169** liraya aldığı ceketleri **215** liraya satmaktadır. Buna göre bu satıcı **5** mont satışından kaç lira kâr eder?

GÜNÜN KISA **HİKÂYESİ** (UYDUR, UYDUR, YAZ)

aşçı

GÜNÜN 4 İŞLEM **ALİŞTİRMALARI**

$$\begin{array}{r} 650 \\ + 193 \\ \hline \end{array}$$

$$\begin{array}{r} 487 \\ + 204 \\ \hline \end{array}$$

$$\begin{array}{r} 300 \\ - 145 \\ \hline \end{array}$$

$$\begin{array}{r} 721 \\ - 426 \\ \hline \end{array}$$

$$\begin{array}{r} 62 \\ \times 7 \\ \hline \end{array}$$

$$\begin{array}{r} 43 \\ \times 13 \\ \hline \end{array}$$

$$\begin{array}{r} 96 \overline{) 5} \\ \hline \end{array}$$

$$\begin{array}{r} 45 \overline{) 3} \\ \hline \end{array}$$

AYLARI – **MEVSİMLERİ** YAZ

1. Ay	2. Ay	3. Ay	4. Ay	5. Ay	6. Ay

7. Ay	8. Ay	9. Ay	10. Ay	11. Ay	12. Ay

Kış mevsiminin ayları

--	--	--

İlkbahar mevsiminin ayları

--	--	--

Yaz mevsiminin ayları

--	--	--

Sonbahar mevsiminin ayları

--	--	--