

Adı : .....  
Soyadı: .....

2. Sınıf  
Matematik

Geometrik Örüntüler-3

Verilen örüntü kuralına uygun boş bırakılan yerleri tamamlayalım.



.....



.....



.....



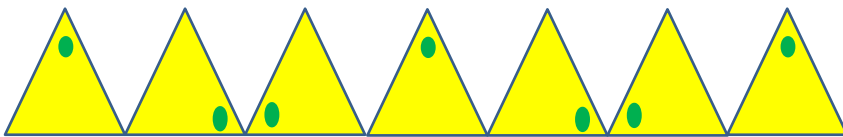
.....



.....



.....



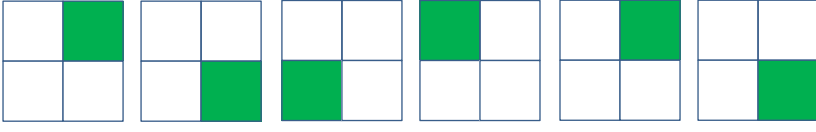
.....

Adı : .....  
Soyadı: .....

2. Sınıf  
Matematik

Geometrik Örüntüler-3


Verilen örüntüye kuralına uygun devam ettiriniz.



.....



.....



.....



.....



.....



.....



.....