

1)

15 () 06 () 2021

Tarihler yazılırken gün , ay ve yılı gösteren sayıları birbirinden ayırmak için iki farklı noktalama işareti kullanılır.
Yukarıdaki ifadeye göre hangi noktalama işaretleri kullanılır?

- A) (.) (,) B) (.) (?)
C) (.) (-) D) (.) (/)

2)

Kedi () kuş () balık ve köpek evde bes() lenen hayvanlardan bazılarıdır. Sen evde hayvan besliyor musun ()

Yukarıdaki yay ayrıçlar içine sırayla hangi noktalama işaretleri konmalıdır?

- A) (,)(,)(.)(?) B) (,)(,)(-)(?)
C) (,)(,)(-)(.) D) (,)(,)(-)(!)

3)

() Yarın İstanbul'a gidiyoruz () dedi.

Yukarıdaki yay ayrıçlar içine hangi noktalama işareti gelmelidir?

- A) Virgül B) Tırnak işareti
C) Kısa çizgi D) Eğik çizgi

4)

Hey arkadaşlar () Sevimli mi sevimli bir yavru köpek var burada ()

Yukarıdaki yay ayrıçlar içine sırayla hangi noktalama işaretleri konmalıdır?

- A) (!) (?) B) (.) (?)
C) (!) (.) D) (.) (.)

5)

Geçen ay oynanan Türkiye () Hollanda maçında 2 () gölü Halil mi attı ()

Yukarıdaki yay ayrıçlar içine sırayla hangi noktalama işaretleri konmalıdır?

- A) (-)(.)(?) B) (-)(.)(.)
C) (,)(.)(?) D) (-)(,)(?)

6)

I - $\frac{1}{14}$

II - $\frac{1}{10}$

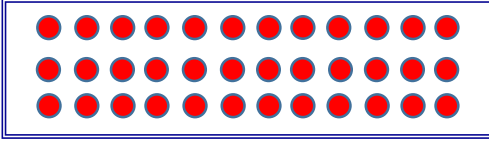
III - $\frac{1}{20}$

IV - $\frac{1}{17}$

$\frac{1}{12} > A > \frac{1}{18}$ ifadesinde A yerine yukarıdaki kesirlerden hangileri yazılabilir?

- A) I - IV B) I - II
C) II-III D) II - IV

7)



Yukarıdaki boncukların $\frac{1}{4}$ 'i kaç boncuk yapar?

- A) 9 B) 8
C) 10 D) 7

8)

$\frac{9}{8}$	$\frac{12}{8}$	$\frac{6}{8}$
I	II	III

Yukarıdaki kesirlerin küçükten büyüğe doğru sıralanışı aşağıdakilerden hangisidir?

- A) I<II<III B) I<III<II
C) III<I<II D) III<II<I




9)

126 tane yumurtanın $\frac{2}{7}$ 'si kırılmış. Geri kalan yumurta ise altışarlı şekilde kolinmiş.




Yukarıdaki ifadeye göre kaç koli yumurta olmuştur?

- A) 18 B) 15
C) 14 D) 17

10)

$\frac{8}{14}$		$\frac{10}{14}$	$\frac{15}{9}$		$\frac{12}{9}$
		$4\frac{3}{6}$		$3\frac{3}{6}$	

Yukarıdaki şekiller yerine "<" veya ">" sembollerinden hangisi gelmelidir?

- | | | | |
|----|------------------------------------------------------------------------------------|-------------------------------------------------------------------------------------|-------------------------------------------------------------------------------------|
| |  |  |  |
| A) | < | > | < |
| B) | > | > | < |
| C) | > | < | < |
| D) | < | > | > |

- 11) I – Buldukları ortama hemen yayılırlar.
II – Sıkıştırılmazlar.
III – Belirli bir şekilleri yoktur.

Gaz maddeler için yukarıdaki ifadelerden hangileri doğrudur?

- A) I-II B) II-III
C) I-III D) Hepsi

- 12) Katı maddelerin belirli bir şekli vardır.
 Tüm katı maddeler sıvı hale geçer.
 Dışarıdan etki ile katı maddelerin şekli değişebilir.

Yukarıdaki ifadelerden doğru olanlara "D", yanlış olanlara "Y" yazarsak hangi sonuç ortaya çıkar?

- A)

D
Y
D

 B)

Y
Y
Y

 C)

D
D
Y

 D)

Y
Y
D

- 13) (6) duman – (5) çay – (8) odun
(4) pirinç - (2) su buharı – (9) elma
(1) silgi – (3) kolonya – (7) cam

Yukarıdaki sıvı ve gaz maddelerin başındaki rakamlar kullanılarak aşağıdaki sayılardan hangisi yazılabilir ?

- A) 2576 B) 8936
C) 4536 D) 2536

- 14) Sıkıştırılabilirler.
 Akışkandırlar.
 Buldukları kabın şeklini alırlar.

Yukarıdakilerden hangileri gaz ve sıvı maddelerin ortak özellikleridir?

- A) B)
C) D)

- 15) Ozan buzluktan çıkardığı buzı bardağa koyuyor. Bir süre sonra bardakta buz yerine su olduğunu gördü.

Ozan , buzluktan çıkardığı maddenin sırasıyla hangi hallerini görmüştür?

- A) katı - gaz
B) katı - sıvı
C) sıvı - katı
D) gaz - sıvı

- 16) Aşağıdakilerden hangisi doğrudur ?

- A) Ulaşım zamanla yavaşlamıştır.
B) İletişim teknolojinin gelişmesiyle zorlaşmıştır.
C) Teknolojik ürünler sürekli gelişim göstermiştir.
D) Teknolojik gelişmeler çevremizi değiştirmemiştir.

- 17) ● Ulaşımın daha konforlu hale gelmesi.

- Evlerdeki birçok işin kolaylaşması.
▲ Yeşil alanların azalması.
◆ Hava kirliliğinin artması.

Yukarıdakilerden hangileri teknolojinin olumsuz sonuçlarıdır?

- A) ■ ◆ B) ▲ ◆
C) ● ▲ D) ■ ▲

- 18) Bu alet ilk yapıldıklarında şimdiki gibi elimize alıp kullanamıyorduk. Büyük ve ağırdı. Ayrıca üflenen havanın ısı ve şiddeti ayarlanamıyordu.

Yukarıdaki ifadeye göre sözü edilen ürün aşağıdakilerden hangisidir?

- A) Saç kurutma makinesi
B) Ütü
C) Buzdolabı
D) Fırın

19) Aşağıdaki teknolojik ürünlerden hangileri bilgi edinme , iletişim ve eğlenme alanlarında kullanılır?

- A) Cep telefonu - tablet
- B) Tablet - mikser
- C) Mutfak robotu - bilgisayar
- D) Fotokopi makinesi – telefon

20)



Yukarıdaki resimlerdeki tekerleklerin geçmişten günümüze değişim sırası aşağıdakilerden hangisidir?

- A) III-I-IV-II
- B) III-I-II-IV
- C) I-II-III-IV
- D) I-II-IV-III

CEVAP ANAHTARI

TÜRKÇE	MATEMATİK	FEN BİLİM.	SOSYAL BİL.
1) D	6) A	11) C	16) C
2) B	7) A	12) A	17) C
3) B	8) C	13) D	18) A
4) C	9) B	14) D	19) D
5) A	10) D	15) B	20) B