

Adı :

Soyadı:

3. Sınıf
Matematik

Kesirler-4

Birim Kesir: Payı 1 olan kesirlerdir.

Birim kesirleri işaretleyiniz.

$\frac{1}{5}$

$\frac{2}{3}$

$\frac{1}{4}$

$\frac{5}{1}$

$\frac{4}{5}$

$\frac{1}{7}$

$\frac{6}{1}$

$\frac{2}{7}$

$\frac{1}{10}$

$\frac{1}{100}$

$\frac{1}{8}$

$\frac{4}{1}$

$\frac{2}{1}$

$\frac{1}{6}$

$\frac{8}{8}$

$\frac{1}{9}$

Verilen kesirlerin birim kesrini yazınız.

$\frac{2}{3} \rightarrow \frac{1}{3}$

$\frac{5}{5} \rightarrow$

$\frac{3}{6} \rightarrow$

$\frac{4}{8} \rightarrow$

$\frac{7}{7} \rightarrow$

$\frac{2}{5} \rightarrow$

$\frac{3}{3} \rightarrow$

$\frac{3}{4} \rightarrow$

$\frac{3}{7} \rightarrow$

$\frac{4}{9} \rightarrow$

$\frac{4}{9} \rightarrow$


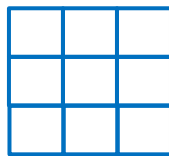
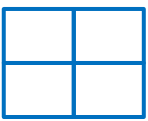
$\frac{2}{6} \rightarrow$

$\frac{5}{7} \rightarrow$

$\frac{3}{10} \rightarrow$

$\frac{5}{6} \rightarrow$

Aşağıdaki şekillerin birim kesrini boyayınız. Birim kesrini altına yazınız.



Adı :

Soyadı:

3. Sınıf
Matematik

Kesirler-4

Aşağıdaki şekillerdeki nesnelerin sayısını kesir olarak yazınız.

