

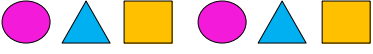
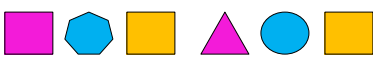

Adı : .....

Soyadı: .....

## 2. Sınıf Matematik

## Geometrik Örüntüler Yaprak Test-1


1 Aşağıdakilerden hangisi örüntü değildir?

- (A) 
- (B) 
- (C) 







2 Yukarıdaki örüntünün kuralı aşağıdakilerden hangisidir?

- (A) İki bulut bir güneş
- (B) İki bulut iki yıldız bir güneş
- (C) İki bulut bir güneş bir yıldız



3 Yukarıdaki geometrik örüntüde boş bırakılan yere hangi şekil gelmelidir?

- (A) 
- (B) 
- (C) 






4 Yukarıdaki geometrik şekillerde örüntü kuralı aşağıdakilerden hangisidir?

- (A) Bir üçgen iki kare iki daire
- (B) Bir üçgen iki kare bir daire
- (C) Bir üçgen bir kare iki daire

**Örüntü Kuralı:** İki ay iki yıldız bir güneş

5 Aşağıdakilerden hangisi yukarıdaki örüntü kuralına uygun dizilmiştir?

- (A) 
- (B) 
- (C) 

5338533 .....

6 Yukarıdaki örüntü nasıl devam etmelidir?


- (A) 8-3-3
- (B) 8-3-5
- (C) 8-5-3

Adı : .....

Soyadı: .....

## 2. Sınıf Matematik

## Geometrik Örüntüler Yaprak Test-1

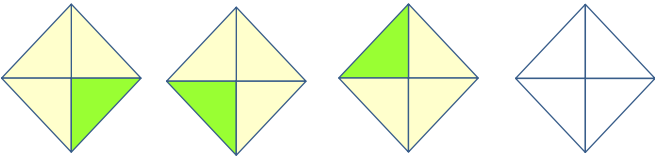


**7** Aşağıdakilerden hangisi yukarıdaki örüntü kuralına benzemektedir?

- (A)
- (B)
- (C)

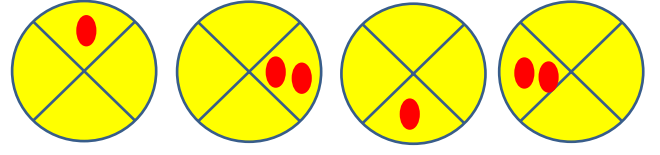
**8** Aşağıdaki örüntülerden hangisi diğerlerinden farklı bir kurala sahiptir?

- (A)
- (B)
- (C)



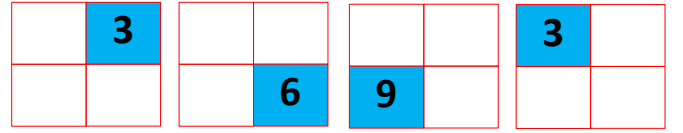
**9** Yukarıdaki örüntülerde en sondaki şekil aşağıdakilerden hangisi olmalıdır?

- (A)
- (B)
- (C)



**10** Yukarıdaki örüntüye göre 5. şekil aşağıdakilerden hangisi olmalıdır?

- (A)
- (B)
- (C)



**11** Yukarıda verilen örüntüye göre 5. şekil aşağıdakilerden hangisi olmalıdır?

- (A)
- (B)
- (C)

AABAACAÇAADAAE

**12** Yukarıdaki örüntü nasıl devam etmelidir?

- (A) FAA
- (B) AAF
- (C) AFF