

1. SINIF - PARALARIMIZ DEĞERLENDİRME ETKİNLİĞİ

1) 10 Türk lirasının altındaki daireyi boyayınız.



2) Aşağıdaki kâğıt paraların miktarlarını altlarına yazınız.







3) 25 kuruşluk madeni paranın altındaki daireyi boyayınız.



4) Madeni paralar ile miktarlarını eşleştiriniz.



1 kuruş

5 kuruş

10 kuruş



25 kuruş

50 kuruş


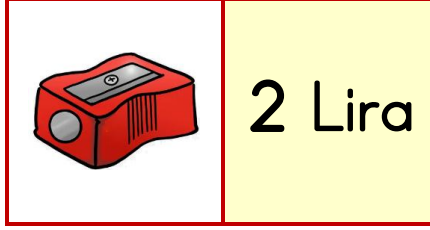
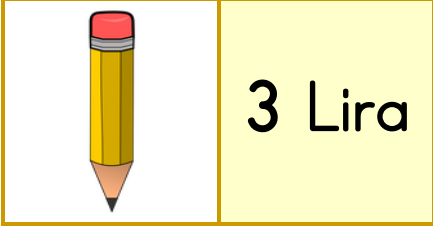
1 lira



5) Değeri fazla olan paranın şeklini maviye, az olanı sarıya boyayınız.



6) Satış fiyatı verilen nesnelere ilgili problemleri çözünüz.



Kalem ve açacak alırsam kaç lira ödemem gerekir?



Çözüm:

Defter ve kalem alırsam kaç lira ödemem gerekir?



Çözüm:

Açacak ve defter alırsam kaç lira ödemem gerekir?



Çözüm: