

Adı :

Soyadı:

3. Sınıf Matematik

Kesirler-6

Şekilleri kesirle yazınız.



...



...



...



...



...

Boyalı alanları renklere göre kesirle yazınız.



Mavi= $\frac{\dots}{\dots}$

Yeşil= $\frac{\dots}{\dots}$



Sarı= $\frac{\dots}{\dots}$

Kırmızı= $\frac{\dots}{\dots}$

Boş= $\frac{\dots}{\dots}$

Nesnelerin sayısını kesirle yazınız.



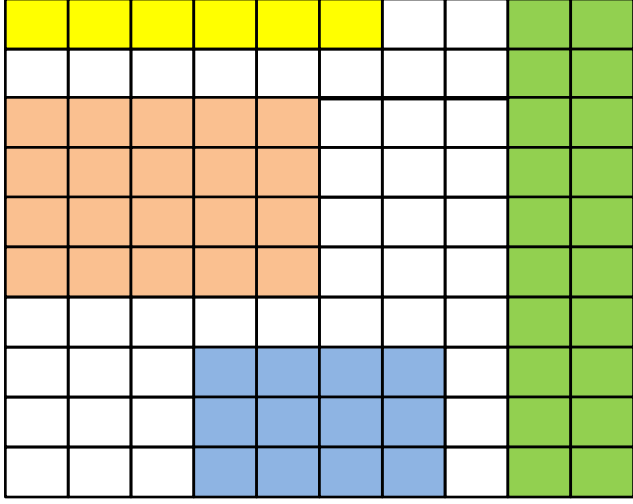
Adı :





Soyadı:

3. Sınıf Matematik

Kesirler-6

Renklerin kapladığı alanı kesir olarak yazınız.










			
...
—	—	—	—
...

A	A	A	A	A	A	A	A	A	A
A	A	A	A	A	A	A	A	A	A
B	B	B	B	B	B	B	B	B	B
B	B	B	B	B	B	B	B	B	B
B	B	B	B	B	B	B	B	B	B
C	C	C	C	C	C	C	C	C	C
D	D	D	D	D	D	D	D	D	D
D	D	D	D	D	D	D	D	D	D
D	D	D	D	D	D	D	D	D	D
D	D	D	D	D	D	D	D	D	D

...
—	—	—	—
...

Verilen kesirlere göre boyayınız.



	$\frac{10}{100}$		$\frac{15}{100}$
	$\frac{20}{100}$		$\frac{5}{100}$
	$\frac{30}{100}$		$\frac{1}{100}$

Geriye kalan boş alanın kesri:

En az alana sahip rengin kesri:

En çok alana sahip rengin kesri: