

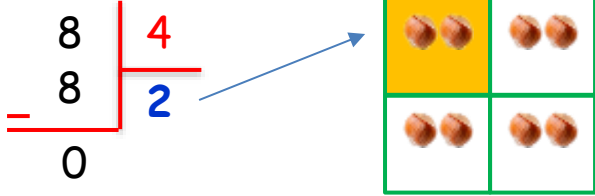
Adı :

Soyadı:

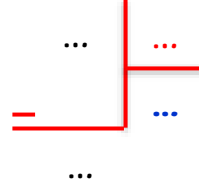
3. Sınıf
Matematik

Kesirler-7


8 fındığın $\frac{1}{4}$ 'i kaç fındık eder?



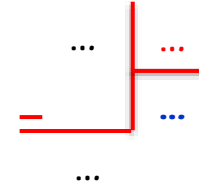
30 öğrencinin $\frac{1}{3}$ 'i kaç öğrenci eder?



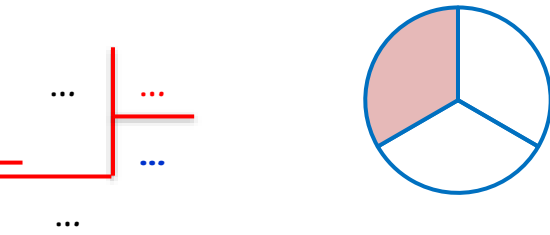
10 elmanın $\frac{1}{5}$ 'i kaç elma eder?



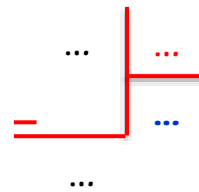
42 sayısının $\frac{1}{6}$ 'i kaç eder?



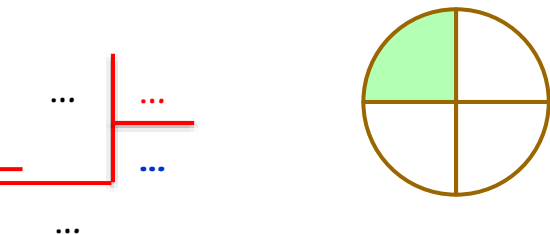
15 kalemin $\frac{1}{3}$ 'i kaç kalem eder?



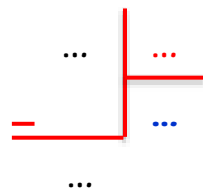
30 sayısının $\frac{1}{5}$ 'i kaç eder?



20 balonun $\frac{1}{4}$ 'i kaç balon eder?



40 sayısının $\frac{1}{8}$ 'i kaç eder?



Adı :

Soyadı:

3. Sınıf Matematik

Kesirler-7

20 elmanın $\frac{1}{4}$ 'ini yedim. Kaç elma yedim?

$$\begin{array}{r} 20 \\ - 20 \\ \hline 0 \end{array}$$

4
5

5	5
5	5

20 elmanın $\frac{1}{4}$ 'i tane elma eder.

20 elmanın $\frac{2}{4}$ 'si tane elma eder.

20 elmanın $\frac{3}{4}$ 'ü tane elma eder.

20 elmanın $\frac{4}{4}$ 'ü tane elma eder.

65 yumurtanın $\frac{1}{5}$ 'i kırıldı. Kaç yumurta kırıldı?

$$\begin{array}{r} \dots \\ - \dots \\ \hline \dots \end{array}$$

1	1	1	1	1
---	---	---	---	---

65 yumurtanın $\frac{1}{5}$ 'i

65 yumurtanın $\frac{2}{5}$ 'si

65 yumurtanın $\frac{3}{5}$ 'ü

65 yumurtanın $\frac{4}{5}$ 'ü

24 balonun $\frac{1}{6}$ 'i patladı. Patlayan balon sayısı kaçtır?

$$\begin{array}{r} \dots \\ - \dots \\ \hline \dots \end{array}$$

1	1
1	1
1	1

24 balonun $\frac{2}{6}$ 'si tane balon eder.

24 balonun $\frac{4}{6}$ 'ü tane balon eder.

54 şekerin $\frac{1}{6}$ 'ini dağıttım. Kaç şeker dağıttım?

$$\begin{array}{r} \dots \\ - \dots \\ \hline \dots \end{array}$$

1	1
1	1
1	1

54 şekerin $\frac{3}{6}$ 'ü tane şeker eder.

54 şekerin $\frac{5}{6}$ 'i tane şeker eder.