


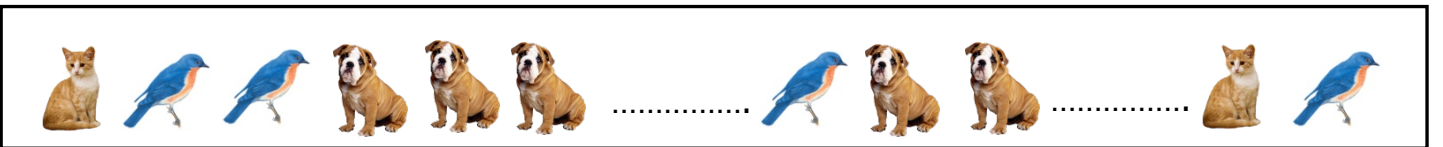




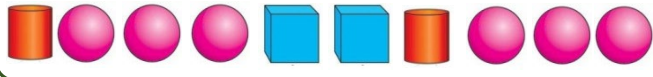
Adı Soyadı :

Numarası :

Konu: Örüntü Oluşturalım

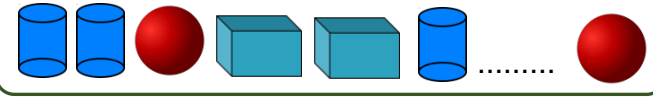
Aşağıdaki örüntüleri inceleyiniz boş bırakılan yerlere uygun şekillerle tamamlayınız.





1 Aşağıdaki örüntülerden hangisinin ilişkisi, yukarıdaki örüntü ilişkisiyle aynıdır?

- A)
- B)
- C)



2 Yukarıdaki örüntüde boş bırakılan yere aşağıdakilerden hangisi gelmelidir?

- A)
- B)
- C)



3 Yukarıdaki örüntülerden hangi ikisinin ilişkisi aynıdır?

- A) 1 ve 2 B) 1 ve 3 C) 2 ve 3



4 Yukarıdaki örüntüyü hangi meyve bozmaktadır?

- A)
- B)
- C)



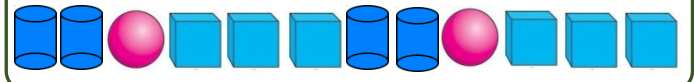
5 Yukarıdaki örüntünün kuralı hangi seçenekte verilmiştir?

- A) 2 çilek, 2 erik, 1 muz
B) 2 çilek, 2 muz, 2 erik
C) 2 çilek, 1 erik, 2 muz



6 Aşağıdaki örüntülerden hangisinin ilişkisi, yukarıdaki örüntü ilişkisiyle aynıdır?

- A)
- B)
- C)



7 Yukarıdaki örüntünün kuralı hangisidir?

- A)
- A)
- B)



8 Yukarıdaki örüntüde boş bırakılan yere aşağıdakilerden hangisi gelmelidir?

- A)
- B)
- C)