





Adı Soyadı : .....

Numarası : .....

Konu: Sıvı Ölçme ( Sıvıları ölçelim, karşılaştıralım)

## Sıvıları Ölçelim, Karşılaştıralım

Aşağıdaki görsellerden sıvı olanları işaretleyiniz.



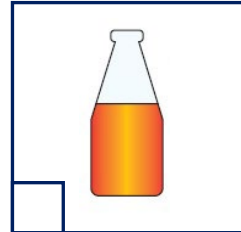
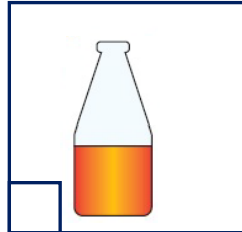
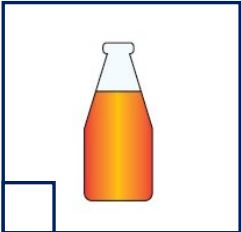
Aşağıdaki kaplardan en az sıvı alandan en çok sıvı alana doğru numaralandırarak sıralayınız.



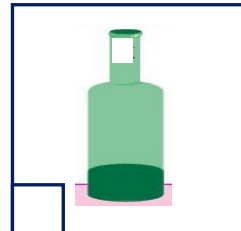
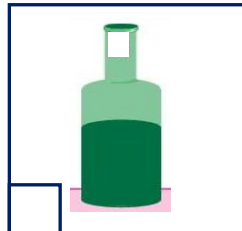
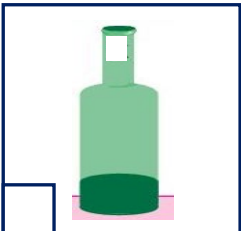
Aşağıdaki kaplardan en çok sıvı alandan en az sıvı alana doğru numaralandırarak sıralayınız.



Aşağıdaki şişelerden hangisinde zeytinyağı miktarı en fazladır? İşaretleyiniz.



Aşağıdaki şişelerden hangisinde su miktarı en azdır? İşaretleyiniz.



Aşağıdaki görsellere bakarak noktalı yerlere “az veya fazla” sözcüklerinden uygun olanını yazalım.



Leğen, sürahiden ..... sıvı alır.



Bardak, maşrapadan ..... sıvı alır.



Şişe, damacanadan ..... sıvı alır.



Fincan, kaşıktan ..... sıvı alır.

Yandaki kovayı aşağıdaki nesnelere hangisiyle daha çabuk doldururuz? İşaretleyiniz.



Yandaki çaydanlığı aşağıdaki bardakların hangisiyle daha uzun sürede doldururuz? İşaretleyiniz.

