















# 1. SINIF EĞLENCELİ VERİLMEYEN TOPLANAN ETKİNLİĞİ

❖ Toplama işlemlerinde verilmeyen noktaları çiziniz.

	+	<input type="text"/>	=	6
<input type="text"/>	+		=	5
	+	<input type="text"/>	=	9
<input type="text"/>	+		=	4
	+	<input type="text"/>	=	5
<input type="text"/>	+		=	8
	+	<input type="text"/>	=	9

	+	<input type="text"/>	=	10
<input type="text"/>	+		=	8
	+	<input type="text"/>	=	7
<input type="text"/>	+		=	6
	+	<input type="text"/>	=	9
<input type="text"/>	+		=	8
	+	<input type="text"/>	=	9

❖ Toplama işlemlerinde verilmeyen sayıları bulunuz.

$$\square + 5 = 8$$

$$3 + \square = 7$$

$$\square + 4 = 9$$

$$4 + \square = 5$$

$$\square + 2 = 6$$

$$\square + 1 = 4$$

$$2 + \square = 3$$

$$4 + \square = 10$$

$$\square + 3 = 6$$

$$\square + 1 = 2$$

$$2 + \square = 7$$

$$\square + 3 = 4$$

$$2 + \square = 5$$

$$\square + 3 = 8$$

# 1. SINIF EĞLENCELİ VERİLMEYEN TOPLANAN ETKİNLİĞİ

6 tane şekerim var.

9 tane şekerim olsun istiyorum.

Kaç şeker daha almalıyım?



$$6 + \square = 9$$



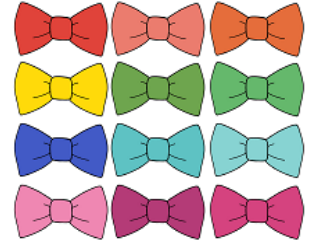
8 tane tokam var.

12 tane tokam olsun istiyorum.

Kaç toka daha almalıyım?



$$8 + \square = 12$$



3 tane tişörtüm var.

10 tane tişörtüm olsun istiyorum.

Kaç tişört daha almalıyım?




$$3 + \square = 10$$



9 tane balonum var.

15 tane balonum olsun istiyorum.

Kaç balon daha almalıyım?



$$9 + \square = 15$$

