

## ALTIN ÇİÇEK

Günün ilk ışıkları Oğuz obalarını aydınlatırken Bican Bey'in otağında yeni doğmuş bir bebeğin çığlıkları obanın sessizliğini bozuyordu.

Gökyüzlü, kızıl dudaklı, ela gözlü, karadan kara saçlı bebeğin doğum haberi Bican Bey'in otağına bayram havası getirmişti. Bu doğan kız çocuğu anasından doğduktan sonra bir kere süt emdi, bir daha emmedi. Kımız içti, av tuttu, at sürdü, eli kılıç kalkan tuttu.

Günler günleri kovaladı. Babası Bican Bey, çiçeklerle oynayan ve çok seven bu yiğit kızın adını Banu Çiçek koydu. Banu Çiçek, obada ki bütün çiçeklerden daha güzel kokar, bütün çiçekleri tanıır ve özelliklerini bilirdi.

Obaya yakın ormanda arkadaşlarıyla ava gitmeyi, onlarla vakit geçirmeyi at sürmeyi, ok atmayı çok severdi. Yine bir gün arkadaşlarıyla atını ormana sürdü. Avlarının peşinden koşarken önlerine bir nehir çıktı, arkadaşlarıyla bu deli deli akan nehri geçmeye karar verdiler.

Banu Çiçek, nehri geçerken önüne iki başlı tek gözlü bir yılan çıktı. Banu Çiçek'in atı ürktü. Banu Çiçek yere düştü...

(Dede Korkut Hikayelerim-Ömer USLU)

1 ve 2. soruyu metne göre cevaplayınız.

1. Banu Çiçek, ava kim ile gitti?


- a) Bican Bey ile
- b) Arkadaşlarıyla
- c) Kardeşleriyle

2. Aşağıdakilerden hangisi Banu Çiçek'in fiziksel özelliklerinden değildir?

- a) Kızıl dudaklı
- b) Ela gözlü
- c) Sarı saçlı

3. "Ece, mangala oynamayı çok sever." Verilen cümlede hangi sorunun cevabı yoktur?

- a) Nerede?
- b) Ne?
- c) Kim?



4. Yukarıdaki verilen kelimelerden kaç tanesi yanlış yazılmıştır?

- a) 4
- b) 3
- c) 2

5. Aşağıdaki sayılardan hangisi doğru yazılmıştır?

- a) dört yüz onüç
- b) beş yüz beş
- c) Sekizyüz kırk altı

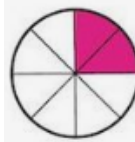
6. Aşağıdaki cümlelerden hangisinde virgül yanlış kullanılmıştır?

- a) Sinemaya Umay, Orhan ve Ali gitti.
- b) Çocuk, köpeği görünce çok korktu.
- c) Pazardan üzüm, erik, ve elma aldı.

( ) Ayşe okuldan geldi mi ( )  
( ) Birazdan gelir ( )

7. Yukarıdaki konuşmada yay ayraç( ) içlerine sırasıyla hangi noktalama işaretleri konmalıdır?

- a) (-) (?) (.) (.)
- b) (-) (?) (-) (!)
- c) (-) (?) (-) (.)



8.

Yandaki şekil aşağıdakilerden hangisine eşittir?

- a) Çeyrek
- b) Yarım
- c) Bütün



9.

Yandaki modellenen boyalı kesir aşağıdakilerden hangisidir?

- a)  $\frac{5}{8}$
- b)  $\frac{3}{5}$
- c)  $\frac{8}{5}$

10. Payı 6, paydası 9 olan kesir aşağıdakilerden hangisidir?

a)  $\frac{9}{6}$       b)  $\frac{6}{9}$       c)  $\frac{6}{8}$



Yedide beş

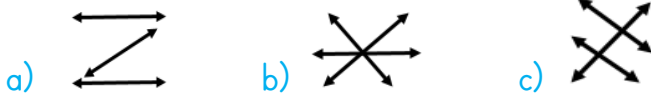


Sekizde beş



Beşte iki

11. Yukarıdaki şekiller ve ifade ettikleri kesir sayılarının okunuşları eşleştirildiğinde oluşan görünüm hangisi seçenekte verilmiştir?



12. Yarım portakallarla ilgili olarak aşağıdaki ifadelerden hangisi yanlıştır?

- a) 4 bütün, 4 yarım portakala eşittir.  
b) 5 bütün portakal yapar.  
c) 20 çeyrek portakal yapar.

13. Yandaki gösterimi yapılan kesrin payında aşağıdaki sayılardan hangisi yer alır?



- a) 1      b) 5      c) 6

14. Aşağıdakilerden hangisi yarımı göstermektedir?



15. Yandaki işaretin anlamı hangisidir?

- a) Bisiklet giremez.      b) Yaya giremez.  
c) Okul geçidi

16. Trafik işaretleri ve işaret levhaları hangi amaçla kullanılır?

- a) Çevreyi güzelleştirmek için  
b) Ceza ödemek için  
c) Trafiği düzenlemek için

17. Aşağıdaki davranışlardan hangisi doğru değildir?

- a) Koltuklara, camlara, kapılara zarar vermemeliyiz.  
b) Toplu ulaşım araçları içerisinde emniyet kemeri takmamalıyız.  
c) Aracın penceresinden baş ve kollarımızı dışarı çıkartmamalıyız.

18. Verilen bilgilerden hangisi yanlıştır?

- a) Ses her yöne yayılır.  
b) Varlıklar titreşerek ses oluşturur.  
c) Kulağımızla bütün sesleri duyabiliriz.

19. Hangisi doğal ses kaynağı değildir?

- a) Papağan      b) Gitar      c) Şelale

20. Aşağıdaki ortamlardan hangisinde ses yayılmaz?

- a) Uzayda      b) Suda      c) Ormanda

## CEVAPLAR

Adı Soyadı: .....

- |    |   |   |   |    |   |   |   |
|----|---|---|---|----|---|---|---|
| 1  | A | B | C | 11 | A | B | C |
| 2  | A | B | C | 12 | A | B | C |
| 3  | A | B | C | 13 | A | B | C |
| 4  | A | B | C | 14 | A | B | C |
| 5  | A | B | C | 15 | A | B | C |
| 6  | A | B | C | 16 | A | B | C |
| 7  | A | B | C | 17 | A | B | C |
| 8  | A | B | C | 18 | A | B | C |
| 9  | A | B | C | 19 | A | B | C |
| 10 | A | B | C | 20 | A | B | C |

## CEVAPLAR

Adı Soyadı: .....

- |    |   |   |   |    |   |   |   |
|----|---|---|---|----|---|---|---|
| 1  | A | B | C | 11 | A | B | C |
| 2  | A | B | C | 12 | A | B | C |
| 3  | A | B | C | 13 | A | B | C |
| 4  | A | B | C | 14 | A | B | C |
| 5  | A | B | C | 15 | A | B | C |
| 6  | A | B | C | 16 | A | B | C |
| 7  | A | B | C | 17 | A | B | C |
| 8  | A | B | C | 18 | A | B | C |
| 9  | A | B | C | 19 | A | B | C |
| 10 | A | B | C | 20 | A | B | C |

## CEVAPLAR

Adı Soyadı: .....

- |    |   |   |   |    |   |   |   |
|----|---|---|---|----|---|---|---|
| 1  | A | B | C | 11 | A | B | C |
| 2  | A | B | C | 12 | A | B | C |
| 3  | A | B | C | 13 | A | B | C |
| 4  | A | B | C | 14 | A | B | C |
| 5  | A | B | C | 15 | A | B | C |
| 6  | A | B | C | 16 | A | B | C |
| 7  | A | B | C | 17 | A | B | C |
| 8  | A | B | C | 18 | A | B | C |
| 9  | A | B | C | 19 | A | B | C |
| 10 | A | B | C | 20 | A | B | C |

1.	B	6.	C	11.	C	16.	C
2.	C	7.	C	12.	A	17.	B
3.	A	8.	A	13.	A	18.	C
4.	C	9.	A	14.	C	19.	B
5.	B	10.	B	15.	A	20.	A

Ömer USLU