



ZAMAN ÖLÇME

Aşağıdaki zamanla ilgili dönüşümleri işlem yaparak bulalım.

2 saat kaç dakikadır?

.....

6 saat kaç dakikadır?

.....

9 saat kaç dakikadır?

.....

5 saat kaç dakikadır?

.....

8 saat kaç dakikadır?

.....

3 dakika kaç saniyedir?

.....

7 dakika kaç saniyedir?

.....

10 dakika kaç saniyedir?

.....

4 dakika kaç saniyedir?

.....

20 dakika kaç saniyedir?

.....

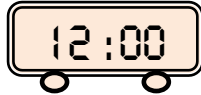
15 dakika kaç saniyedir?

.....

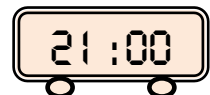
40 saat kaç dakikadır?

.....

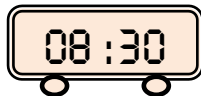
Aşağıdaki saatlerin gösterdiği zamanların farkını dakika cinsinden yazalım.



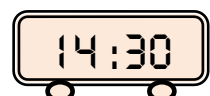
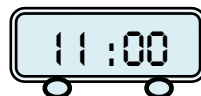
.....



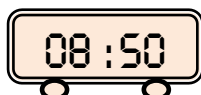
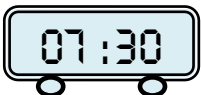
.....



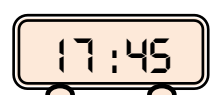
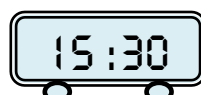
.....



.....



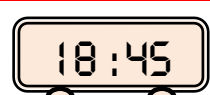
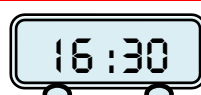
.....



.....



.....



.....



ZAMAN ÖLÇME

Aşağıdaki zamanla ilgili dönüşümleri işlem yaparak bulalım.

180 dakika kaç saattir?

.....

540 dakika kaç saattir?

.....

360 dakika kaç saattir?

.....

1200 dakika kaç saattir?

.....

240 dakika kaç saattir?

.....

3000 dakika kaç saniyedir?

.....

300 saniye kaç dakikadır?

.....

600 saniye kaç dakikadır?

.....

420 saniye kaç dakikadır?

.....

1800 saniye kaç dakikadır?

.....

480 saniye kaç dakikadır?

.....

120 saniye kaç dakikadır?

.....

Aşağıdaki zamanla ilgili dönüşümleri örnekteki gibi işlem yaparak bulalım.

86 dakika kaç saat , kaç dakikadır?

$$\begin{array}{r} 86 \text{ } | 60 \\ - 60 \text{ } | 1 \\ \hline 26 \end{array} \quad 1 \text{ saat } 26 \text{ dk}$$

75 dakika kaç saat , kaç dakikadır?

$$\begin{array}{r} \text{---} \\ | \\ \text{---} \end{array}$$

.....

134 dakika kaç saat , kaç dakikadır?

$$\begin{array}{r} \text{---} \\ | \\ \text{---} \end{array}$$

.....

190 dakika kaç saat , kaç dakikadır?

$$\begin{array}{r} \text{---} \\ | \\ \text{---} \end{array}$$

.....

105 dakika kaç saat , kaç dakikadır?

$$\begin{array}{r} \text{---} \\ | \\ \text{---} \end{array}$$

.....

83 saniye kaç dakika , kaç saniyedir?

$$\begin{array}{r} \text{---} \\ | \\ \text{---} \end{array}$$

.....

136 saniye kaç dakika , kaç saniyedir?

$$\begin{array}{r} \text{---} \\ | \\ \text{---} \end{array}$$

.....

264 saniye kaç dakika , kaç saniyedir?

$$\begin{array}{r} \text{---} \\ | \\ \text{---} \end{array}$$

.....

187 saniye kaç dakika , kaç saniyedir?

$$\begin{array}{r} \text{---} \\ | \\ \text{---} \end{array}$$

.....