

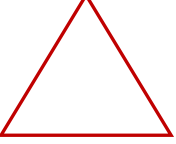



Adı Soyadı : .....


Numarası : .....


Konu: Geometrik Şekiller Sınıflandırılım

Aşağıdaki geometrik şekillerin adlarını, kenar ve köşe sayılarını yazınız.








Şeklin adı: .....
Kenar sayısı: .....
Köşe sayısı: .....


Şeklin adı: .....
Kenar sayısı: .....
Köşe sayısı: .....



Şeklin adı: .....
Kenar sayısı: .....
Köşe sayısı: .....


Şeklin adı: .....
Kenar sayısı: .....
Köşe sayısı: .....



Aşağıdaki geometrik şekillerin benzer ve farklı yönlerini yazınız.

Geometrik Şekiller	Benzer Yönleri	Farklı Yönleri
 		
 		
 		

Aşağıdaki geometrik şekilleri özelliklerine göre boyayalım.

Kenarı ve köşesi olmayanları **kırmızı**4 eş kenarı ve dört köşesi olanları **yeşil**3 kenarı 3 köşesi olanları **sarı**Karşılıklı kenarları eşit 4 kenarı olanları **mavi**

Aşağıdaki görseller hangi geometrik şekillere benzemektedir? Altlarına yazınız.



Aşağıdaki ifadelerden doğru olanlara "D" yanlış olanlara "Y" yazınız.

- ( ) Çemberin bir kenarı vardır.
- ( ) Karenin dört eşit kenarı ve dört köşesi vardır.
- ( ) Dikdörtgenin dört köşesi ve dört eşit kenarı vardır.
- ( ) Karenin köşe sayısı üçgenden fazladır.
- ( ) Dikdörtgenin kenar sayı karenin kenar sayısına eşittir.
- ( ) Çember ve dairenin özellikleri aynıdır.

Aşağıdaki görselde geometrik şekillerin kaçar tane olduklarını yazınız. Görseldeki şekilleri istenilen renklere boyayınız.

Kareleri: **kırmızı**  
Dikdörtgenleri : **mavi**  
Daireleri: **yeşil**  
Üçgenleri: **mor**

Kare: ..... tane  
Dikdörtgen: .....tane  
Üçgen: ..... tane  
Daire: ..... tane

