





1) Aşağıdaki çarpma işlemlerinden hangisinin sonucu yanlıştır?







- A)  $6 \times 4 = 24$   
 B)  $7 \times 5 = 35$   
 C)  $8 \times 3 = 21$

2) Aşağıdaki çarpma işlemlerinden hangisinin sonucu farklıdır?

- A)  $9 \times 3 =$   
 B)  $10 \times 3 =$   
 C)  $6 \times 5 =$

3)   $6 \times 4 =$    $7 \times 4 =$   
  $8 \times 5 =$    $8 \times 3 =$

Yukarıdaki çarpma işlemlerinden hangilerinin sonucu aynıdır?

- A)  ve   
 B)  ve   
 C)  ve 

4) Aşağıdaki çarpma işlemlerinden sonucu en büyük olan hangisidir?

- A)  $9 \times 3 =$   
 B)  $8 \times 4 =$   
 C)  $7 \times 5 =$

5)

$7 \times 2 = 14$	$5 \times 5 = 24$
$6 \times 3 = 21$	$9 \times 5 = 40$
$8 \times 4 = 25$	$6 \times 5 = 32$


Yukarıdaki çarpma işlemlerinden kaç tanesinin sonucu doğrudur?


- A) 1                      B) 3                      C) 5

6)

“Yedi kere dört kaç eder?”

Yukarıdaki soruya hangi öğrenci doğru cevap vermiştir?

A)  Bence cevap 35.

B)  Ben 28 diyorum.

C)  Cevap 21 olmalı.

7) Aşağıdaki çarpma işlemlerinden sonucu en küçük olan hangisidir?

- A)  $8 \times 3 = ?$   
 B)  $6 \times 3 = ?$   
 C)  $9 \times 3 = ?$

8) Aşağıdaki çarpma işlemlerinden hangisinin sonucu farklıdır?

A)  $4 \times 4 =$

B)  $6 \times 3 =$

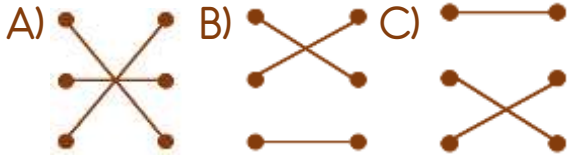
C)  $8 \times 2 =$

9)  $6 \times 3 =$  ● ●  $9 \times 2 =$

$4 \times 4 =$  ● ●  $5 \times 4 =$

$4 \times 5 =$  ● ●  $8 \times 2 =$

Yukarıdaki çarpma işleminden sonucu aynı olanlar nasıl eşleştirilmelidir?



10) ●  $\times 4 = 36$   
7  $\times$  ■  $= 35$

Yukarıda verilen çarpma işlemlerine göre "●  $\times$  ■  $= ?$ " işleminin sonucu kaçtır?

A) 30 B) 40 C) 45

11) "Sekiz çarpı beş" işleminin sonucu kaçtır?

A) 36 B) 40 C) 45

12)



Bir çiftlikte 4 tane at bulunmaktadır.

Çiftlikteki atların ayak sayılarını hangi işlem yapılarak doğru bir şekilde bulunmuştur?

A)  $4 \times 4 = 16$

B)  $8 \times 2 = 16$

C)  $4 + 4 = 16$

13)



Bayramda bana annem, babam, amcam ve teyzem 5'er lira verdiler.

Melisa kaç lira harçlık topladığını çarpma işlemi yaparak bulmuştur.

Verilen bilgilere göre Melisa, defterine hangi işlemi yapmıştır?

A)  $3 \times 5 = 15$

B)  $4 \times 5 = 20$

C)  $5 \times 5 = 25$

14) Her gün iki tane ceviz yiyen Ezel, bir haftada kaç ceviz yer?

A) 10

B) 14

C) 18

## Cevap Anahtarı

1-C 2-A 3-A 4-C 5-A 6-B 7-B 8-B 9-C 10-C 11-B 12-A 13-B 14-B