

- 1) Annesi , Yaren'e seslendi:
() Tüm ödevlerini yaptın mı?

Yukarıda yay ayraç içerisinde aşağıdakilerden hangisi gelmelidir?

- A) (—) B) (" ") C) (!)

- 2) Hey Mert () Yarın köye gidecek misin ()

Yukarıdaki cümlede boş bırakılan yerlere sırayla hangi noktalama işaretleri gelmelidir?

- A) (!) (.) B) (!) (!) C) (!) (?)

- 3) Aşağıdaki cümlelerden hangisinin sonuna farklı bir noktalama işareti gelmelidir?

- A) Soner güzel mi güzel bir resim yapmış()
B) Küçük beyaz kuzuyu sevdiğin mi ()
C) Ablam üzümlü kek yapmış ()

- 4) Dün gece Erzuruma çok kar yağmış

Sıla yukarıdaki cümleyi yazarken noktalamayı işaretlerini unutmuş. Sıla aşağıdaki noktalama işaretlerinden hangilerini kullanmalı?

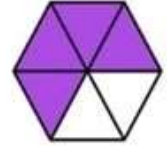
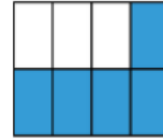
- A) (,) (.) B) (`) (.) C) (.) (?)

- 5) ➤ Lütfen bana yardım edin ()
➤ Poşetlerin hepsini sen mi taşıdın ()
➤ Deniz nereye gideceğini bilmiyordu ()

Yukarıdaki cümlelerin sonuna sırayla hangi noktalama işaretleri gelmelidir?

- A) (!) (?) (?) B) (.) (?) (.)
C) (!) (?) (.)

- 6)



Aşağıdaki kesir sayılarından hangisinin şekli yukarıda **yoktur**?

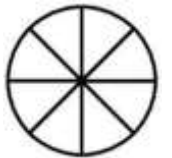
- A) $\frac{4}{4}$ B) $\frac{4}{6}$ C) $\frac{5}{8}$

- 7) $\frac{3}{5}$, $\frac{1}{7}$, $\frac{3}{3}$, $\frac{1}{100}$, $\frac{1}{4}$, $\frac{8}{6}$, $\frac{7}{10}$

Yukarıdaki kesir sayılarından kaç tanesi birim kesirdir?

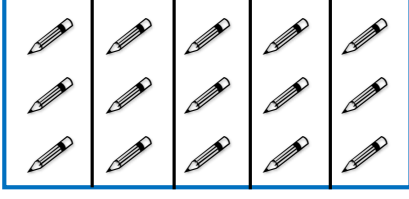
- A) 3 B) 5 C) 2

- 8) Zafer yandaki şeklin birim kesir kadarını boyamak istiyor. Bunun için kaç parça boyaması gerekir?



- A) 8 B) 3 C) 1

9)



Yukarıdaki şekle göre 15 kalem birim kesir kadarı kaç tane kalem eder?

- A) 5 B) 3 C) 6

10)

Metin 42 sayfa olan hikaye kitabının $\frac{1}{6}$ 'sini okumuş.

Yukarıdaki ifadeye göre Metin kaç sayfa okumuştur?

- A) 6 B) 8 C) 7

- 11) I – Kişisel bilgilerimizi
II – Ev adresimizi
III-Anne ve babamızın telefon numaralarını

Yukarıdaki bilgilerden hangilerini tanımadığımız kişilerle paylaşmamalıyız?

- A) Sadece I B) I ve II C) Hepsi

- 12) Tanımadığımız bir kişi bizi arabasına bindirmek istediğinde aşağıdakilerden hangisi – pılmamalıdır?

- A) Çabucak oradan uzaklaşmalıyız.
B) Olduğumuz yerde beklemeliyiz.
C) Bağırarak yardım istemeliyiz.

- 13) Ayaz : Tanımadığım kişilerle konuşmam.
Pelin: Tanımadığım kişilerin verdiği yiyeceği yerim.
Şule: Tanımadığım kişilerin arabasına binmem.

Yukarıdaki hangi çocuğun davranışı **yanlıştır**?

- A) Ayaz B) Pelin C) Şule

14)

Taner, evden okula giderken tanımadığı bir adamın kendisini takip ettiğini fark etti.

Yukarıdaki ifadeye göre Taner'in davranışı Aşağıdakilerden hangisi **olmamalıdır**?

- A) Görmezden gelmelidir.
B) Durumu öğretmene anlatmalıdır.
C) Aile büyüklerine söylemelidir.

- 15) Güvenliğimizin tehlikede olduğu bir durumda hangi meslek grubundan yardım isteyebiliriz?

- A) Polis B) Doktor C) Şoför

- 16) Sude : Dün gece gök gürültüsünden çok korktum.
Barış: İş makinalarının sesi bizi rahatsız etti.

Yukarıda bahsedilen ses kaynaklarıyla ilgili aşağıdakilerden hangisi doğrudur?

- | | <u>Sude</u> | <u>Barış</u> |
|----|-------------|--------------|
| A) | Doğal | Doğal |
| B) | Doğal | Yapay |
| C) | Yapay | Doğal |

17)



Utku kuşun sesini duyarken , kelebeğin çıkardığı sesi duyamamaktadır. Bu durum daha çok aşağıdakilerden hangisiyle ilgilidir?

- A) Sesin yönü
B) Ses kaynağının mesafesi
C) Sesin şiddeti

- 18) Aşağıdakilerden hangisinin ses şiddeti diğerlerinden daha **fazladır**?

A)



B)



C)



- 19) Ses sadece kaynağın önüne doğru yayılır.
 İşitmede sesin şiddeti önemli değildir.
 Yapay ses kaynakları insanlar tarafından yapılmıştır.

Yukarıdaki ifadelerin yanındaki boşluğa doğru - yanlış diye yazdığımızda doğru sıralama aşağıdakilerden hangisi olur?

A)



B)



C)



- 20) Aşağıdakilerden hangisi **doğrudur**?

- A) Şiddeti düşük olan sesleri daha iyi duyarız.
B) Her sesin şiddeti aynıdır.
C) Her sesi duyamayabiliriz.

CEVAP ANAHTARI

TÜRKÇE	MATEMATİK	HAYAT BİL.	FEN BİLİM.
1) A	6) A	11) C	16) B
2) C	7) A	12) B	17) C
3) B	8) C	13) B	18) B
4) B	9) B	14) A	19) A
5) C	10) C	15) A	20) C