

Adı :

Soyadı:

3. Sınıf Matematik

Kesirler Yaprak Test-2



1 Yukarıdaki sayı doğrusunda A ile gösterilen kesir hangisidir?

A $\frac{4}{6}$

B $\frac{6}{4}$

C $\frac{2}{6}$




2 Ayla yukarıdaki pizzanın $\frac{3}{8}$ 'ünü yedi. Geriye ne kadar pizza kalmıştır?

A $\frac{3}{5}$

B $\frac{5}{8}$

C $\frac{8}{5}$

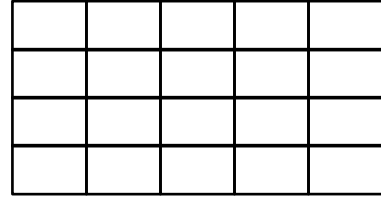


3 Yukarıdaki şeklin tamamı 64 sayısına eşittir. Boyalı bölgelerin toplamı kaçtır?

A 56

B 40

C 48



4 Yukarıdaki şekildeki birim karelerden 5 tanesi maviye, 7 tanesi kırmızıya, geri kalanı sarıya boyanmıştır. Sarı bölge kesir olarak nasıl ifade edilir?

A $\frac{20}{8}$

B $\frac{8}{12}$

C $\frac{8}{20}$

5 Yarısı 48 olan sayının $\frac{1}{6}$ 'i kaç eder?

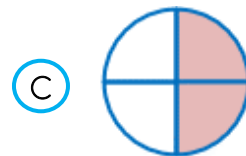
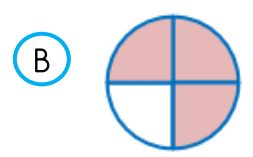
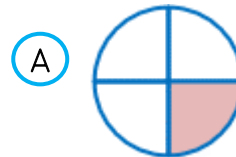
A 16

B 20

C 18

Dünyamızın $\frac{3}{4}$ 'ü sularla kaplıdır.
Geri kalanı karalardır.

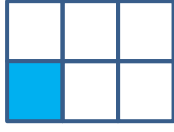
6 Aşağıdaki şekillerden hangisi Dünya'da karaların kapladığı alanı gösterir?



Adı :
Soyadı:

3. Sınıf Matematik

Kesirler Yaprak Test-2



7 Bütünü 48 olan sayının birim kesri kaç eder?

- (A) 7 (B) 6 (C) 8



8 Bir meyve tabağında yukarıdaki meyveler bulunmaktadır. Hangi bilgi doğrudur?

- (A) $\frac{3}{10}$ 'ü portakaldır.
(B) $\frac{5}{5}$ 'i incirdir.
(C) $\frac{10}{2}$ 'u elmadır.



Benim okul numaram 48 sayısının $\frac{1}{4}$ 'idir.



Benim okul numaram 56 sayısının $\frac{1}{2}$ 'idir.

9 İki öğrencinin okul numaralarının toplamı kaç eder?

- (A) 34 (B) 38 (C) 40

10 Poyraz 72 tane bilyenin $\frac{1}{6}$ 'ini kaybetti. $\frac{1}{8}$ 'ini arkadaşına verdi. Poyraz'ın kaç bilyesi kalmıştır?

- (A) 44 (B) 48 (C) 51

11 Elif 84 TL parasının $\frac{1}{6}$ 'i ile kitap, $\frac{1}{4}$ 'i ile boya aldı. Elif'in kaç lira parası kaldı?

- (A) 55 TL (B) 35 TL (C) 49 TL

12 Kitaplıktaki 60 kitabın $\frac{1}{6}$ 'i roman, $\frac{1}{5}$ 'i hikaye, $\frac{1}{4}$ 'i ise şiir kitabıdır. Roman, hikâye ve şiir kitaplarının toplamı kaçtır?

- (A) 35 (B) 37 (C) 42

Doğru :.....

Yanlış:.....

- | | | | | | | | |
|---|-----|-----|-----|----|-----|-----|-----|
| 1 | (A) | (B) | (C) | 7 | (A) | (B) | (C) |
| 2 | (A) | (B) | (C) | 8 | (A) | (B) | (C) |
| 3 | (A) | (B) | (C) | 9 | (A) | (B) | (C) |
| 4 | (A) | (B) | (C) | 10 | (A) | (B) | (C) |
| 5 | (A) | (B) | (C) | 11 | (A) | (B) | (C) |
| 6 | (A) | (B) | (C) | 12 | (A) | (B) | (C) |

Adı :

Soyadı:

3. Sınıf
Matematik

Kesirler
Yaprak Test-2

Doğru :

Yanlış:.....

- 1 A B C
2 A B C
3 A B C
4 A B C
5 A B C
6 A B C

- 7 A B C
8 A B C
9 A B C
10 A B C
11 A B C
12 A B C