

Adı :
Soyadı:

3. Sınıf
Matematik

Zaman Ölçme-4



5 dakika önce

5 dakika sonra



5 dakika önce

5 dakika sonra



5 dakika önce

5 dakika sonra



10 dakika önce

10 dakika sonra



10 dakika önce

10 dakika sonra



10 dakika önce

10 dakika sonra



15 dakika önce

15 dakika sonra



15 dakika önce

15 dakika sonra



15 dakika önce

15 dakika sonra

Adı :

Soyadı:

3. Sınıf
Matematik

Zaman Ölçme-4



20 dakika önce

20 dakika sonra



20 dakika önce

20 dakika sonra



20 dakika önce

20 dakika sonra



30 dakika önce

30 dakika sonra



30 dakika önce

30 dakika sonra



30 dakika önce

30 dakika sonra



1 saat önce

1 saat sonra



1 saat önce

1 saat sonra



1 saat önce

1 saat sonra

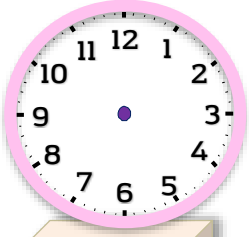
Adı :

Soyadı:

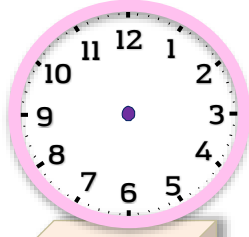
3. Sınıf
Matematik

Zaman Ölçme-4

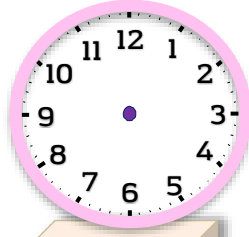
Aşağıdaki dijital saatin 5 dakika sonrasını çiziniz.



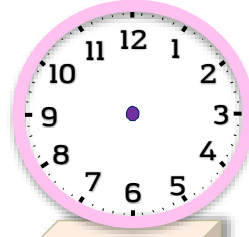
02:20



03:20

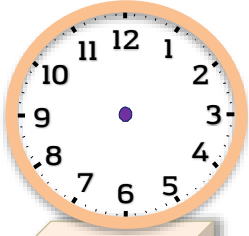


05:55

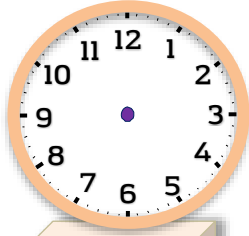


06:35

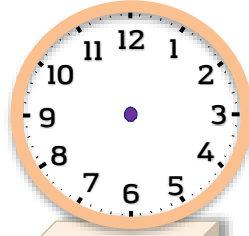
Aşağıdaki dijital saatin 10 dakika sonrasını çiziniz.



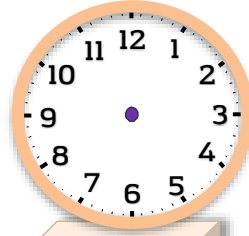
03:30



14:20

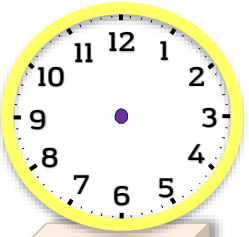


18:05

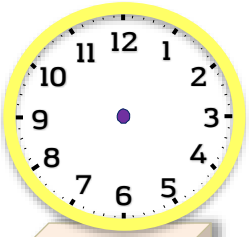


22:40

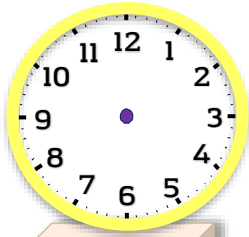
Aşağıdaki dijital saatin 10 dakika öncesini çiziniz.



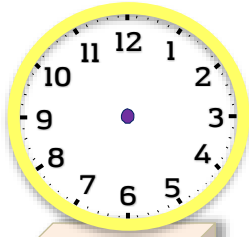
15:25



22:50

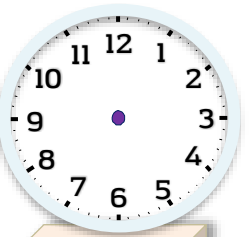


12:15

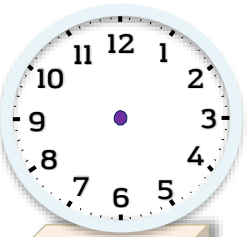


17:45

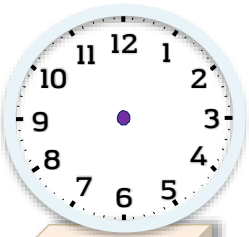
Aşağıdaki dijital saatin 20 dakika sonrasını çiziniz.



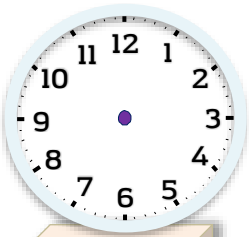
19:35



23:50



12:45



08:10