



Adı : .....  
Soyadı: .....


## 2. Sınıf Hayat Bilgisi

## Güvenli Hayat Yaprak Test-3


1 Acil durum numaraları için hangi çocuğun yaptığı davranış doğrudur?

A)  Başım ağrıdığı zaman 1-5-5 numarayı ararım.

B)  Acil durum değilse 1-1-2 numarayı meşgul etmem.

C)  Bilgisayarım arızalandığında 1-1-2 numarayı arayabilirim.

2 Acil yardım numaraları ve taşıtları hangisinde yanlış eşleştirilmiştir?

A)  1-5-5

B)  1-5-6

C)  1-1-2

3 Cemre, Antalya'dan İstanbul'a en hızlı ve en güvenli taşıt ile gitti. Cemre'nin bindiği taşıtın sürücüsüne ne denir?

- A) Pilot
- B) Makinist
- C) Kaptan


4 Okul servisinde hangi öğrencinin yaptığı davranış yanlıştır?


A) 

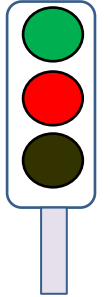
B) 

C) 

5 Kara yolunda kullanılan ışıklı trafik lambası aşağıdakilerden hangisidir?

A) 

B) 

C) 

6 Kaykay, bisiklet veya paten kullanacağımız zaman hangi ürünleri kullanmalıyız?

- A) Dizlik, eldiven, gözlük
- B) Kask, dirseklik, şort
- C) Dizlik, dirseklik, kask

Adı : .....  
Soyadı: .....

## 2. Sınıf Hayat Bilgisi

## Güvenli Hayat Yaprak Test-3



7 Görseldeki çocuğun hatalı davranışı sonucu çocuk için hangi olumsuz durum meydana gelebilir?

- A) Top arabanın altında kalıp patlar.
- B) Araba çocuğa çarpabilir.
- C) Trafik polisi ceza yazabilir.

8 Evimizdeki teknolojik aletleri kullanırken hangisini yapmak doğru değildir?

- A) Ellerimiz ıslak iken dokunmayalım.
- B) Telefon şarja takılı iken kullanmayalım.
- C) Bozuk prizleri kendimiz tamir edelim.

9 Toplu taşıma araçlarında en ön koltuklar.....için ayrılmıştır. Bu nedenle herkes oturamaz. Bu cümlede boş bırakılan yere hangi kelime yazılamaz?

- A) Polisler
- B) Yaşlılar
- C) Engelliler

- 1-15 yaşından küçükler ön koltuğa oturamaz.
- 2-Sadece ön koltukta oturanlar emniyet kemeri takmalıdır.
- 3-Şoför ile konuşarak onun dikkatini dağıtmamalıyız.

10 Güvenli yolculuk için yukarıdaki bilgilerden hangileri doğrudur?

- A) 1-3
- B) 3
- C) 1-2-3

x	Keskindir
✓	Zehirler
x	Soğutur

✓	Patlar
x	Sıcaktır
✓	Kokar

11 Aşağıdaki tabloda özellikleri işaretlenmiş teknolojik araç hangisidir?

- A) Bıçak
- B) Televizyon
- C) Tüp gaz

Doğru : .....

Yanlış:.....

- 1 A B C
- 2 A B C
- 3 A B C
- 4 A B C
- 5 A B C
- 6 A B C

- 7 A B C
- 8 A B C
- 9 A B C
- 10 A B C
- 11 A B C
- 12 A B C

Adı : .....  
Soyadı: .....

2. Sınıf  
Hayat Bilgisi

Güvenli Hayat  
Yaprak Test-3

Doğru :.....

Yanlış:.....

- 1 A B C  
2 A B C  
3 A B C  
4 A B C  
5 A B C  
6 A B C

- 7 A B C  
8 A B C  
9 A B C  
10 A B C  
11 A B C  
12 A B C