

## Neşet Ertaş

Neşet Ertaş, bin dokuz yüz otuz sekiz yılında İç Anadolu bozkırlarının tam göbeğinde, Kırtıllar Köyünde dünyaya gelmiştir. Babası büyük saz ustası Muharrem Ertaş'tır. Çocukluk ve ilk gençlik yıllarını Kırşehir, Yozgat ve Keskin'in çeşitli köylerinde geçirmiştir. "Bozkırın Tezenesi" olarak da adlandırılan büyük saz ve söz ustamızdır.

1 ve 2. soruları yukarıdaki metne göre cevaplayınız.

1. Yukarıdaki metinde "Neşet Ertaş" ile ilgili bilgilerden hangisine değinilmemiştir?

- a) Nerelerde yaşadığına
- b) Babasının saz ustası olduğuna
- c) Gittiği okullara

2. Neşet Ertaş'ın çocukluk ve gençlik yıllarını geçirdiği yerler arasında aşağıdakilerden hangisi yer almaz?

- a) Yozgat
- b) Nevşehir
- c) Kırşehir

3. Aşağıdaki cümlelerin hangisinde büyük harflerin yazımıyla ilgili bir yanlışlık yapılmıştır?

- a) Ahırda ineğimiz sarıkızı görmeyince çok üzüldük.
- b) Zafer Bayram'ını coşkuyla kutladık.
- c) Öğretmenimiz Ordu'ya gitti.

4. Aşağıdaki sözcükler alfabetik sıraya göre dizildiğinde, hangisi 2. sırada yer alır?

- a) Değirmen
- b) Dergi
- c) Deniz

5. Aşağıdaki cümlelerin hangisinde zıt anlamlı sözcükler bir arada kullanılmamıştır?

- a) Ev halkı tarafından sıcak karşılanması ona huzur vermişti.
- b) Önce arkasından seslendik, sonra yanına kadar gittik.
- c) Karınca yaz demedi, kış demedi çalıştı.

6. I. sebep II. aramamalıyız III. okumak  
IV. için V. kitap

Yukarıdaki numaralanmış sözcüklerle anlamlı ve kurallı bir cümle oluşturulduğunda sıralama aşağıdakilerden hangisi olur?

- a) 5-3-1-4-2
- b) 1-2-5-3-4
- c) 5-3-4-1-2

**Selin:** Cümlelerin sonuna bazı noktalama işaretleri koyarız.

**Arzu:** Nokta, virgül, soru işareti, ünlem işareti gibi mi?

**Selin:** Evet ama biri dışında

**Arzu:** Hangisi?

**Selin:** .....

7. Yukarıdaki karşılıklı konuşmada Selin'in yanıtı aşağıdakilerden hangisi olmalıdır?

- a) ünlem işareti
- b) soru işareti
- c) virgül

8. Bir sepetteki 48 yumurtanın  $\frac{1}{4}$ 'i kırıldı.



Sepetteki yumurtaların kaç tanesi kırılmıştır?

- a) 12
- b) 16
- c) 18




9. 69 litre sütün  $\frac{1}{3}$ 'ü satıldı. Geriye kaç kaç litre yağ kaldı?

- a) 25
- b) 46
- c) 23

10. 8 düzine kalemin  $\frac{1}{6}$  'i satılınca geriye kaç tane kalem kalır?




- a)  b)  c) 

11. Agah Yağız'ın yaşı, annesinin yaşının  $\frac{1}{5}$  'i kadardır. Annesi 40 yaşında olduğuna göre Agah Yağız ile annesinin yaşları toplamı kaçtır?




- a)  b)  c) 

12. Bir sınıfta 28 öğrenci bulunmaktadır. Erkek öğrencilerin sayısı, sınıf mevcudunun  $\frac{1}{7}$  'inden 12 fazladır.

Sınıftaki erkek öğrenci sayısı kaçtır?

- a)  b)  c) 

13. Bir marketteki 50 kg domatesin  $\frac{2}{5}$  'si satılmıştır. Buna göre markette kaç kilogram domates satılmıştır?

- a)  b)  c) 

14. Hira Nur, 72 fındığın  $\frac{1}{9}$  'ini ablasına verdi.

Hira Nur'un kaç fındığı kaldı?

- a) 9 b) 64 c) 63

15. Aşağıdakilerden hangisinin ses şiddeti diğerlerinden yüksektir?

- a) Karıncanın ayak sesi b) Güvercinin sesi  
c) Havlayan köpeğin sesi

<u>Yapay Ses Kaynağı</u>	<u>Doğal Ses Kaynağı</u>
Araba Sesi	Rüzgar Sesi
Inek Sesi	Şelale sesi
Keman Sesi	Televizyon Sesi

Ses kaynakları gruplandırılırken yanlışlık yapılmıştır.

Ses kaynaklarından hangilerinin yerlerinin değiştirirsek gruplar doğru olur?

- a) Televizyon Sesi İnek Sesi  
b) Araba Sesi Şelale Sesi  
c) Televizyon Sesi Keman Sesi

17. Aşağıdaki ortamların hangisinde ses kirliliğine rastlanmaz?

- a) havaalanı b) kütüphane c) inşaat alanı

- Deprem • Sel • Çığ • Heyelan

18. Yukarıdakilerden kaç tanesi doğal afettir?

- a) 4 b) 3 c) 2

19. Aşağıdaki verilen bilgilerden hangisi yanlıştır?

- a) Güvenliğimizi tehdit eden durumlarda polis veya jandarmadan yardım isteyebiliriz.  
b) Jandarmalar il, ilçe ve belediye sınırları dışında olan köy gibi yerlerde güvenliğimiz için çalışırlar.  
c) Polis ve jandarmaya ulaşmak için 122 Acil Çağrı Merkezini arayabiliriz.

20. Aşağıda verilenlerden hangisi doğru değildir?

- a) Okula yürüyerek gidip gelirken kestirme ve tenha yolları tercih etmemeliyiz.  
b) Tanımadığımız kişilerden gelen tekliflere hayır demeliyiz.  
c) Tehlikeli olduğunu düşündüğümüz kişilerin yanından ayrılmamalıyız.

## CEVAPLAR

Adı Soyadı: .....

- |    |   |   |   |    |   |   |   |
|----|---|---|---|----|---|---|---|
| 1  | A | B | C | 11 | A | B | C |
| 2  | A | B | C | 12 | A | B | C |
| 3  | A | B | C | 13 | A | B | C |
| 4  | A | B | C | 14 | A | B | C |
| 5  | A | B | C | 15 | A | B | C |
| 6  | A | B | C | 16 | A | B | C |
| 7  | A | B | C | 17 | A | B | C |
| 8  | A | B | C | 18 | A | B | C |
| 9  | A | B | C | 19 | A | B | C |
| 10 | A | B | C | 20 | A | B | C |

## CEVAPLAR

Adı Soyadı: .....

- |    |   |   |   |    |   |   |   |
|----|---|---|---|----|---|---|---|
| 1  | A | B | C | 11 | A | B | C |
| 2  | A | B | C | 12 | A | B | C |
| 3  | A | B | C | 13 | A | B | C |
| 4  | A | B | C | 14 | A | B | C |
| 5  | A | B | C | 15 | A | B | C |
| 6  | A | B | C | 16 | A | B | C |
| 7  | A | B | C | 17 | A | B | C |
| 8  | A | B | C | 18 | A | B | C |
| 9  | A | B | C | 19 | A | B | C |
| 10 | A | B | C | 20 | A | B | C |

## CEVAPLAR

Adı Soyadı: .....

- |    |   |   |   |    |   |   |   |
|----|---|---|---|----|---|---|---|
| 1  | A | B | C | 11 | A | B | C |
| 2  | A | B | C | 12 | A | B | C |
| 3  | A | B | C | 13 | A | B | C |
| 4  | A | B | C | 14 | A | B | C |
| 5  | A | B | C | 15 | A | B | C |
| 6  | A | B | C | 16 | A | B | C |
| 7  | A | B | C | 17 | A | B | C |
| 8  | A | B | C | 18 | A | B | C |
| 9  | A | B | C | 19 | A | B | C |
| 10 | A | B | C | 20 | A | B | C |

1.	C	6.	C	11.	A	16.	A
2.	B	7.	C	12.	B	17.	B
3.	A	8.	A	13.	B	18.	A
4.	C	9.	B	14.	B	19.	C
5.	A	10.	B	15.	C	20.	C

Ömer USLU