

Adı :
Soyadı:

2. Sınıf Matematik

Bölme İşlemi-2

Varlıkları 5'er gruplara ayırınız.



Domateslerin hepsi tanedir.
Domatesleri gruplara ayırdık.
..... tane grup oluştu.




Simitlerin hepsi tanedir.
Simitleri gruplara ayırdık.
..... tane grup oluştu.

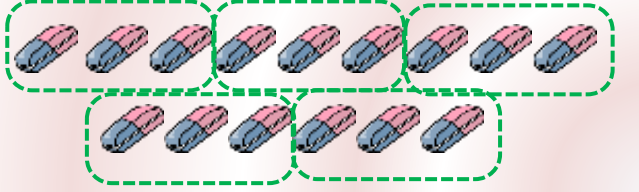


Kuşların hepsi tanedir.
Kuşları gruplara ayırdık.
..... tane grup oluştu.


Aşağıdaki soruları cevaplandırınız.



Hepsi kaç tane? (.....)
Kaçar kaçar ayırdık? (.....)
Kaç tane grup oluştu? (.....)



Hepsi kaç tane? (.....)
Kaçar kaçar ayırdık? (.....)
Kaç tane grup oluştu? (.....)




Hepsi kaç tane? (.....)
Kaçar kaçar ayırdık? (.....)
Kaç tane grup oluştu? (.....)

Adı :
Soyadı:

2. Sınıf Matematik

Bölme İşlemi-2

Aşağıdaki soruları cevaplandırınız.



Hepsi kaç tane? (.....)

Kaçar kaçar ayırdık? (.....)


Kaç tane grup oluştu? (.....)



Hepsi kaç tane? (.....)

Kaçar kaçar ayırdık? (.....)

Kaç tane grup oluştu? (.....)




Hepsi kaç tane? (.....)

Kaçar kaçar ayırdık? (.....)

Kaç tane grup oluştu? (.....)

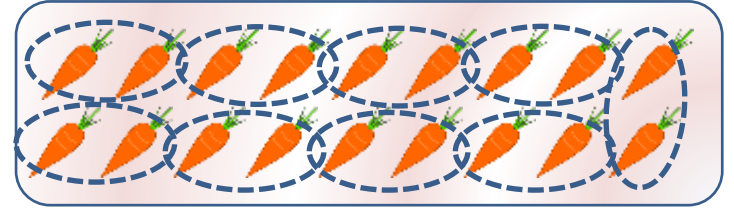
Aşağıdaki soruları cevaplandırınız.



Hepsi kaç tane? (.....)

Kaçar kaçar ayırdık? (.....)

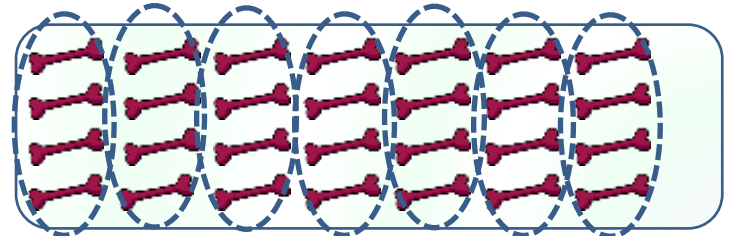
Kaç tane grup oluştu? (.....)



Hepsi kaç tane? (.....)

Kaçar kaçar ayırdık? (.....)

Kaç tane grup oluştu? (.....)



Hepsi kaç tane? (.....)

Kaçar kaçar ayırdık? (.....)

Kaç tane grup oluştu? (.....)