

Adı : .....  
Soyadı: .....

### 3. Sınıf Matematik

Zamanı Ölçme  
Yaprak Test-1



14:55

10:40

17:05

1 Yukarıdaki saatin okunuşu hangisidir?

- A) Saat on bir buçuk
- B) Saat on ikiye yirmi beş var.
- C) Saat yediye beş var.

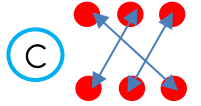
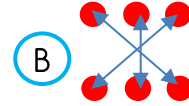
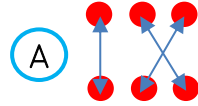
2 Aşağıdaki saatlerden öğleden önce ve öğleden sonra eşleştirmelerden hangisi **yanlıştır**?

	Öğleden Önce	Öğleden Sonra
A	10.25	20.25
B	07.35	19.35
C	11.05	23.05

3 Aşağıdaki bilgilerden hangisi **yanlıştır**?

- A) Dünya'nın kendi etrafında 7 kere dönmesine 1 hafta deriz.
- B) Dünya'nın Güneş etrafında 1 kere dolanmasına 1 yıl deriz.
- C) Dünya'nın kendi etrafında 30 kere dönmesine 1 mevsim deriz.

4 Yukarıdaki analog ve dijital saatler eşleştirildiğinde hangi şekil ortaya çıkar?



5 Murat saate baktığında yelkovan 5'in, akrep 8'in üzerindeydi. Murat'ın baktığı saat kaçı göstermektedir?

- A) 08.25
- B) 05.40
- C) 15.40



6 Yukarıdaki saate göre 15 dakika sonrası kaçı gösterir?

- A) On ikiye yirmi var.
- B) On biri on geçiyor.
- C) On biri kırk beş geçiyor.

Adı : .....  
Soyadı: .....

### 3. Sınıf Matematik

Zamanı Ölçme  
Yaprak Test-1

7 Ayşe'nin evi ile okulu birbirlerine çok yakın. Ayşe'nin yürüyerek evden okula gitmesi için gereken süre hangisi olabilir?

- (A) Yaklaşık 20 saniye  
(B) Yaklaşık 2 saat  
(C) Yaklaşık 10 dakika

Pazartesi	Salı	Çarşamba	Perşembe	Cuma	Cumartesi	Pazar
		1	2	3	4	5
6	7	8	9	10	11	12
13	14	15	16	17	18	19
20	21	22	23	24	25	26
27	28	29	30			

8 Çetin yukarıdaki takvimde hafta içi her gün okula gittiğine göre kaç gün okula gitmiştir?

- (A) 20 (B) 22 (C) 21

9 Aşağıdaki zamanlardan hangisi diğerlerinden daha uzun bir zamanı ifade etmektedir?

- (A) 3 hafta 5 gün  
(B) 45 gün  
(C) 1 ay 5 gün



Başlama Saati

12:30

10 "İyi Ki Varsın Eren" filmi 90 dakika sürmektedir. Filmin arasında 10 dakika mola verilmiştir. Film saat kaçta bitmiştir?

- (A) 14.10 (B) 14.30 (C) 14.00

11 Aşağıdaki dijital saatlerden hangisi öğleden önceyi göstermektedir?

- (A) 12:20 (B) 08:25 (C) 22:15



12 Yukarıda verilen iki saat arasındaki zaman farkı kaç dakikadır?

- (A) 1 saat 20 dakika  
(B) 80 dakika  
(C) 70 dakika

Adı : .....

Soyadı: .....

3. Sınıf  
Matematik

Zamanı Ölçme  
Yaprak Test-1

Doğru :.....

Yanlış:.....

1 A B C

2 A B C

3 A B C

4 A B C

5 A B C

6 A B C

7 A B C

8 A B C

9 A B C

10 A B C

11 A B C

12 A B C