

NASİHAT

Temiz hava dururken
Ciğerlerine duman çekme
Su gibi azizi varken
Zararlı içecekler niye?

Sağlıklı beslen, spor yap
Açık havada oyna
İp atla, topunu kap
Eğlenmelere doyma


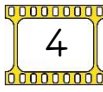
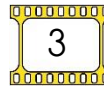
Sevgi dışında bir şeye
Sakın bağımlı olma
Yeşilay'da gönüllü ol
Kapılma kötü alışkanlıklara.
Funda MENEKŞE

1 ve 2. soruları yukarıdaki metne göre cevaplayınız.

1. Nerede gönüllü olmalıyız?

- a) Yeşilay'da b) Kızılay'da c) Okulda

2. İkinci dördüklükte kaç tane kelime bir heceden oluşmaktadır?

- a)  5 b)  4 c)  3



"Etekleri Tutuşmak" deyiminin anlamı aşağıdakilerden hangisidir?

3. a) Yeni bir habere sevinmek
b) Çok değer vermek
c) Çok heyecanlanmak - telaşlanmak

4. "Öğretmenimiz bahçede hızlıca koşmaya başladı." cümlesinde hangi sorunun cevabı yer almaz?

- a) Kim? b) Nasıl? c) Ne zaman?

- 4 ünlü harfi vardır.
- 5 ünsüz harfi vardır.
- 4 heceden oluşur.

5. Yukarıda bilgileri verilen varlığın görseli aşağıdakilerden hangisidir?

- a)  b)  c) 

6. "İlk dersimiz 09()50()de başlayacak()" cümlesinde yay ayrıla gösterilen yerlere sırasıyla hangi noktalama işaretleri konmalıdır?

- a) (:) (') (.) b) (.) (') (.)
c) (.) (,) (.)

7. Aşağıdaki bilgilere göre hangisi yanlıştır?

- a) Şiirlerde dizelerin ilk kelimesi büyük harfle başlar.
b) Hayvanlara verilen adlar büyük harfle başlar.
c) Virgülden sonra gelen kelimeler büyük harfle başlar.



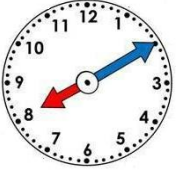
Yandaki saat kaç göstermektedir?

8. a) 4'ü çeyrek geçiyor. b) 4'e çeyrek var.
c) 4'ü 20 geçiyor.



Yandaki saatin dijital saatteki görünümü aşağıdakilerden hangisidir?

9. a)  09 : 15 b)  08 : 15 c)  03 : 45



10.

Yandaki saat yarım saat sonra kaç gösterir?

- a) 08:30 b) 08:40 c) 09:50



11.

Yandaki saat için aşağıdaki ifadelerden hangisi doğrudur?

- a) 5'e 5 var. b) 5'i 5 geçiyor.
c) 5'e 10 var.

12. 3 saat, 4 yarım saat ve 5 çeyrek saat toplam kaç dakika yapar?

- a) 475 dk. b) 325 dk. c) 375 dk.



13.

Yandaki saat öğleden sonra kaç gösterir?

- a) 08:20 b) 20:20 c) 21:20

14. Bir kümesteki 84 yumurtanın $\frac{4}{7}$ 'ü kırıldı. Geriye sağlam kaç yumurta kaldı?

- a) 48 b) 36 c) 32

15. Deprem sırasında aşağıdakilerden hangisini yapmak doğru bir davranıştır?

- a) Hayat üçgeninin oluşabileceği bir yerde başımızı kuruyarak bekleriz.
b) Merdivenlerden koşarak aşağıya ineriz.
c) Hiçbir şey olmamış gibi panik yapmadan otururuz.



16.

Yukarıdaki görsellerde 3. sınıfa giden bazı öğrencilerin davranışları görülmektedir. Bu görseller bize neyi anlatmaktadır?

- a) Akran zorbalığı b) Akran dayanışması
c) Akran sevgisi

17. Güvenliğimiz için aşağıda verilenlerden hangisini yapmak doğru olmaz?

- a) Tanımadığımız kişilere kapımızı açmamalıyız.
b) Tanımadığımız kişilerin arabasına binmemeliyiz.
c) Tanımadığımız kişilerle sohbet etmek.



18.

İşitme kaybı olan kişiler işitme test sonrasında doktorun uygun gördüğü işitme cihazını kullanırlar. Bu cihazların hangi özelliğinden yararlanılır?

- a) Sesin dalgalar halinde yayılması.
b) Ses kaynağını uzaklaştırması.
c) Ses şiddetini artırması.

19. İş makinesi kullanan insanların koruyucu kulaklık takmasının nedeni aşağıdakilerden hangisidir?

- a) Kulaklarının üşmesini engellemek için
b) Şiddetli sesler işitme kaybına yol açabileceği için
c) Ses kaynağına daha yakın olmak için

CEVAPLAR

Adı Soyadı:

- | | | | | | | | |
|----|---|---|---|----|---|---|---|
| 1 | A | B | C | 11 | A | B | C |
| 2 | A | B | C | 12 | A | B | C |
| 3 | A | B | C | 13 | A | B | C |
| 4 | A | B | C | 14 | A | B | C |
| 5 | A | B | C | 15 | A | B | C |
| 6 | A | B | C | 16 | A | B | C |
| 7 | A | B | C | 17 | A | B | C |
| 8 | A | B | C | 18 | A | B | C |
| 9 | A | B | C | 19 | A | B | C |
| 10 | A | B | C | 20 | A | B | C |

CEVAPLAR

Adı Soyadı:

- | | | | | | | | |
|----|---|---|---|----|---|---|---|
| 1 | A | B | C | 11 | A | B | C |
| 2 | A | B | C | 12 | A | B | C |
| 3 | A | B | C | 13 | A | B | C |
| 4 | A | B | C | 14 | A | B | C |
| 5 | A | B | C | 15 | A | B | C |
| 6 | A | B | C | 16 | A | B | C |
| 7 | A | B | C | 17 | A | B | C |
| 8 | A | B | C | 18 | A | B | C |
| 9 | A | B | C | 19 | A | B | C |
| 10 | A | B | C | 20 | A | B | C |

CEVAPLAR

Adı Soyadı:

- | | | | | | | | |
|----|---|---|---|----|---|---|---|
| 1 | A | B | C | 11 | A | B | C |
| 2 | A | B | C | 12 | A | B | C |
| 3 | A | B | C | 13 | A | B | C |
| 4 | A | B | C | 14 | A | B | C |
| 5 | A | B | C | 15 | A | B | C |
| 6 | A | B | C | 16 | A | B | C |
| 7 | A | B | C | 17 | A | B | C |
| 8 | A | B | C | 18 | A | B | C |
| 9 | A | B | C | 19 | A | B | C |
| 10 | A | B | C | 20 | A | B | C |

1.	A	6.	B	11.	A	16.	A
2.	B	7.	C	12.	C	17.	C
3.	C	8.	A	13.	B	18.	C
4.	C	9.	A	14.	B	19.	B
5.	B	10.	B	15.	A	20.	

Ömer USLU