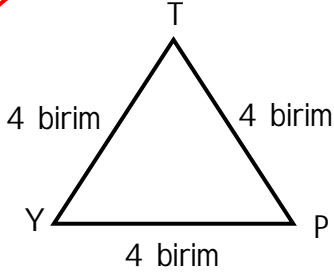


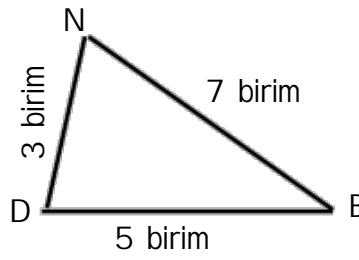


GEOMETRİK ŞEKİLLER

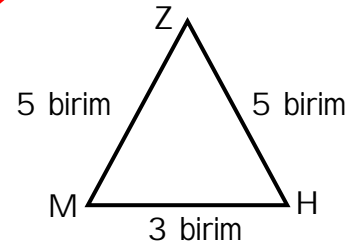
a Aşağıdaki üçgenlerle ilgili doğru ismi işaretleyelim.



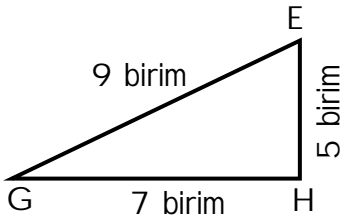
- İkizkenar üçgendir.
 Eşkenar üçgendir.
 Çeşitkenar üçgendir.



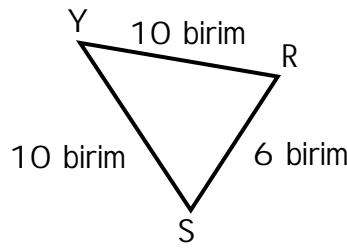
- İkizkenar üçgendir.
 Eşkenar üçgendir.
 Çeşitkenar üçgendir.



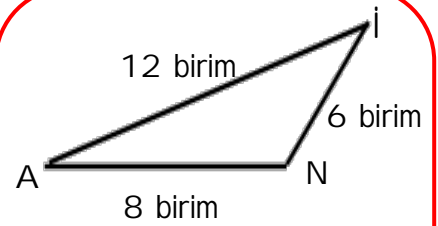
- İkizkenar üçgendir.
 Eşkenar üçgendir.
 Çeşitkenar üçgendir.



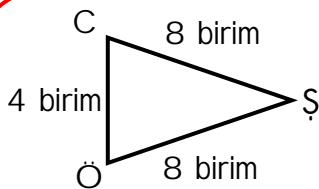
- İkizkenar üçgendir.
 Eşkenar üçgendir.
 Çeşitkenar üçgendir.



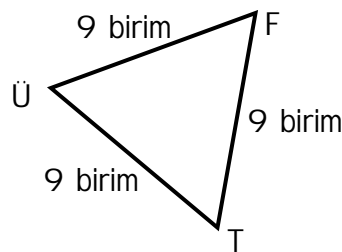
- İkizkenar üçgendir.
 Eşkenar üçgendir.
 Çeşitkenar üçgendir.



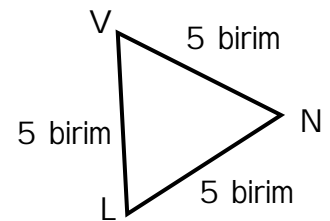
- İkizkenar üçgendir.
 Eşkenar üçgendir.
 Çeşitkenar üçgendir.



- İkizkenar üçgendir.
 Eşkenar üçgendir.
 Çeşitkenar üçgendir.



- İkizkenar üçgendir.
 Eşkenar üçgendir.
 Çeşitkenar üçgendir.



- İkizkenar üçgendir.
 Eşkenar üçgendir.
 Çeşitkenar üçgendir.