




GEOMETRİK ŞEKİLLER

a Aşağıdaki verilen ifadelerin numaralarını ait olduğu geometrik şeklin altına yazınız.
(Bir ifade birden fazla şeklin altına yazılabilir.)

- 1- Dört kenarı var.
- 2- Dört köşesi var.
- 3- Tüm kenar uzunlukları birbirine eşittir.
- 4- Karşılıklı kenar uzunlukları birbirine eşittir.

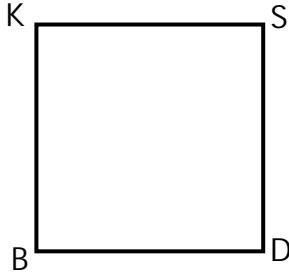


.....




.....

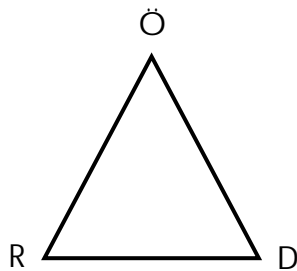
a Aşağıdaki verilen kare ve dikdörtgenin isimlerini (4 farklı şekilde) ve kenarlarını yazınız.



- | | | | |
|-------|--------|-------|--------|
| | karesi | | kenarı |
| | karesi | | kenarı |
| | karesi | | kenarı |
| | karesi | | kenarı |



- | | | | |
|-------|-------------|-------|--------|
| | dikdörtgeni | | kenarı |
| | dikdörtgeni | | kenarı |
| | dikdörtgeni | | kenarı |
| | dikdörtgeni | | kenarı |



- | | | | |
|-------|--------|-------|--------|
| | üçgeni | | kenarı |
| | üçgeni | | kenarı |
| | üçgeni | | kenarı |