

- 1) Umut okumayı o kadar güzel öğrenmiş ki

Yukarıdaki cümle aşağıdakilerden hangisi ile tamamlanırsa hayal ürünü ifade kullanılmış olur?

- A) kitabı çok güzel okudu
B) hiç yanlış yapmadan okudu
C) kitabı bir dakikada okudu
D) heyecanlanmadan okudu
- 2) Aşağıdakilerden hangisi gerçek öge içermektedir?
- A) Yaramaz Kukla
B) Kedisıyla Konuşan Çocuk
C) Masal Anlatan Ay
D) Yüzen Köpek

- 3) Bahçemizde bir armut var,
Onu yerken küçük kurtlar,
Hemen serçe "Olmaz" dedi;
Kurtları hep yuttu yedi

Yukarıdaki dördlükteki hayal ürünü ifade aşağıdakilerden hangisidir?

- A) Serçenin kurtları yemesi.
B) Serçenin kurtlara "Olmaz" demesi.
C) Kurtların armudu yemesi.
D) Bahçede armudun olması.

- 4) ● Köpek kediyi görünce kovalamaya başladı.
△ Köpek kelebekleri yakalamaya çalışıyor.
◇ Köpek ağaca tırmanmak istediğini söyledi.
□ Köpek yeni alınan tasmalarını beğenmemiş.


Yukarıdaki cümlelerden hangisi hayal ürünü ifade içermemektedir?

- A) ◇ □ B) ● △
C) △ □ D) ◇ ●

- 5) Ablamla birlikte dere kenarında oturup

Yukarıdaki cümle aşağıdakilerden hangisi ile tamamlanırsa hayal ürünü ifade kullanılmış olur?

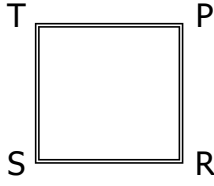
- A) kurbağaları dinlerdik
B) balıkları seyrederdik
C) leyleğin söylediği şarkıyı dinlerdik
D) suyun sesini dinlerdik

- 6) 

Aşağıdakilerden hangisi yukarıdaki dikdörtgenin kenarı değildir?

- A) KL doğru parçası
B) KN doğru parçası
C) LN doğru parçası
D) MN doğru parçası


7)



Yukarıdaki karede PR kenarı ile SR kenarı hangi köşede kesişir?

- A) T B) S C) R D) P

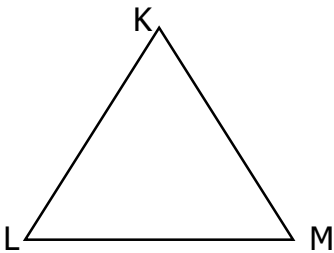
8)



Yukarıdaki dikdörtgende uzun kenarın toplam uzunluğu 26 santimetredir. Buna göre DE kenarının uzunluğu aşağıdakilerden hangisi **olamaz**?

- A) 11 B) 9 C) 13 D) 7

9)



Yukarıdaki üçgende LM kenarı 9 santimetredir. Bu üçgen eşkenar üçgen olduğuna göre diğer iki kenarın toplamı kaç santimetredir?

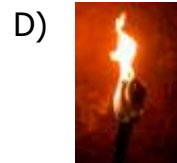

- A) 20 B) 16 C) 9 D) 18

- 10) ● 8 cm , 12 cm , 8 cm
 □ 15 cm , 9 cm , 19 cm
 ◇ 10 cm , 10cm , 10 cm

Yukarıda verilen uzunluklarla oluşturulabilecek üçgenler aşağıdakilerden hangileridir?

- | | | |
|---------------|------------|------------|
| ● | □ | ◇ |
| A) ikizkenar | çesitkenar | eşkenar |
| B) ikizkenar | eşkenar | çesitkenar |
| C) çesitkenar | ikizkenar | eşkenar |
| D) eşkenar | çesitkenar | ikizkenar |

- 11) Aşağıdakilerden hangisi diğerlerinden daha sonra kullanılan bir aydınlatma aracıdır ?




- 12) ● Mum ■ Şimşek
 ▲ Yıldızlar ◇ Ampul

Yukarıdakilerden hangisi doğal ışık kaynağı **değildir**?

- A) ● ■ B) ▲ ◇
 C) ■ ◇ D) ● ◇

- 13) Suna'nın dedesi, çocukluğunda köylerinde elektrik olmadığı için geceleri onun ışığında ders yaptığını söylemiş.

Yukarıda Suna'nın dedesinin söz ettiği aydınlatma aracı aşağıdakilerden hangisidir?



- 14) Mum ateş yakılarak kullanılan bir aydınlatma aracıdır.
- Günümüzdeki aydınlatma araçları daha uzun süreli aydınlatma yapmaktadır.
- Günümüzdeki aydınlatma araçları daha verimli aydınlatma yapmaktadır.

Yukarıdaki ifadelerden doğru olanlara "D", yanlış olanlara "Y" yazarsak hangi sonuç ortaya çıkar?

- A)

D
D
D

 B)

Y
D
Y

 C)

D
Y
D

 D)

D
D
Y

- 15) I – Ampul
II – Florasan lamba
III – Gaz lambası
IV – Mum

Yukarıdaki aydınlatma araçları geçmişten doğru sıralanışı sıralanışı aşağıdakilerden hangisidir?

- A) IV – III – II – I B) III – IV – I – II
C) III – IV – II – I D) IV – III – I – II

- 16) Aşağıdakilerden hangisi ekonomik faaliyet **değildir**?

- A) Fabrikada çalışmak
B) Kitap okumak
C) Hayvancılık
D) Marangozluk

- 17) ● Rehber
■ Aşçı
▲ Madenci
◆ Tur operatörü

Yukarıdaki mesleklerden hangisi turizm ekonomik faaliyetiyle ilgili değildir?

- A) ▲ B) ■
C) ● D) ◆

18) Aşağıdaki illerden hangisi sanayi bakımından diğer illerden daha gelişmiş durumdadır?

- A) İzmit B) Niğde
C) Edirne D) Rize

19) ● Madencilik

- ▣ Turizm
◆ Seracılık
△ Hayvancılık

Antalya ilinde yukarıdaki ekonomik faaliyetlerden hangileri daha çok yapılmaktadır?

- A) ▣ ● B) ◆ △
C) △ ● D) ▣ ◆

- 20) İnsanlar ihtiyaçlarını karşılamak amacıyla ekonomik faaliyetler yaparlar.
 Ekonomik faaliyetlerin temeli üretime dayanır.
 Ekonomik faaliyetler çevre şartlarına göre değişiklik göstermez.

Yukarıdaki ifadelerden doğru olanlara "D", yanlış olanlara "Y" yazarsak hangi sonuç ortaya çıkar?

- A)

D
D
D

 B)

D
Y
D

 C)

D
D
Y

 D)

Y
D
D

CEVAP ANAHTARI

TÜRKÇE	MATEMATİK	FEN BİLİM.	SOSYAL BİL.
1) B	6) B	11) C	16) B
2) D	7) C	12) D	17) A
3) B	8) C	13) D	18) A
4) A	9) D	14) A	19) D
5) C	10) A	15) B	20) C