

Problem mi var?

➔ Problemleri çözelim. Doğru yanıtta ait yuvarlağı boyayalım.


1. Ela'nın 7 tokası vardır. Annesi 5, ablası 4 toka verirse Ela'nın toplam kaç tokası olur?

Çözüm:



2. Bir pazarcının 17 kavunu vardı. Sabah 7 tanesini, akşam 6 tanesini sattı. Pazarcının kaç kavunu kaldı?

Çözüm:



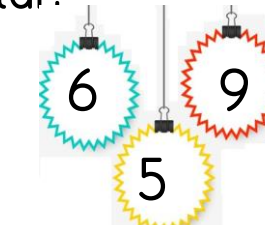
3. 8 yumurtamız vardı. 4 yumurta ablam , 6 yumurtada ablam alırsa, toplam kaç yumurtamız olur?

Çözüm:



4. Aybüke'nin 18 sayfalık kitabı vardı. Sabah 9 sayfasını, akşam 4 sayfasını okudu. Okumadığı kaç sayfası kaldı?

Çözüm:



5. Rüya'nın 19 cevizi vardı. Cevizlerinin 7 tanesini yedi. 3 tanesini kardeşine verdi. Rüya'nın kaç cevizi kaldı?


Çözüm:



Problem mi var?

6. Ayşe 11 yaşındadır. Kardeşi, Ayşe'den 4 yaş küçüktür. İkisinin yaşları toplamı kaçtır ?

Çözüm:




7. Dolabımızda 7 elma, elma sayılarından 3 fazla da erik vardır. Dolabımızda toplam kaç meyve vardır?

Çözüm:




8. Ali'nin 8 lirası var. Ablasının parası, Ali'nin parasından 2 lira azdır. İkisinin toplam kaç lirası var?

Çözüm:



9. 13 sayısının 6 fazlasının 9 eksiği kaç yapar?

Çözüm:



10. Kümeste 6 tavuğumuz var. Ördeklerimiz tavuklardan 4 fazladır. Kümeste toplam kaç hayvanımız var?

Çözüm:

