

Problem mi var?

➔ Problemleri çözelim. Doğru yanıtı ait yuvarlağı boyyalım.

1. Ela'nın 15 balonu vardı. Balonlarının 6 tanesi patladı. 3 tanesini de kardeşine verdi. Ela'nın kaç balonu kaldı?

Çözüm:



2. 16 cevizin 5 tanesini yedim. 8 tanesini arkadaşım ile paylaştım. Kaç cevizim kaldı?

Çözüm:




3. Sınıfımızda dokuz kişiydik. Üç yeni arkadaşımız daha geldi. Sonra iki tanesi başka sınıfa gitti. Sınıfta kaç kişi kaldık ?

Çözüm:




4. Sandıkta 19 portakal vardı. Portakalların 7 tanesini yedik. 4 tanesi de çürümüş. Sandıkta kaç portakal kaldı?

Çözüm:




5. Gökçe'nin 9 lirası vardı. 5 lira annesi, 4 lira da teyzesi verdi. Gökçe'nin kaç lirası oldu?

Çözüm:



6. Emre 11 yaşındadır. Kardeşi, Emre' den 6 yaş küçüktür. İkisinin yaşları toplamı kaçtır ?

Çözüm:




7. Çiftlikte 6 tavuk var. Ördekler, tavuklardan 6 fazladır. Buna göre ikisinin toplamı kaçtır?

Çözüm:



8. Yedi tane kurşun kalemim var. Kırmızı kalemlerim, kurşun kalemlerimden iki tane eksiktir. Toplam kaç kalemim vardır?

Çözüm:



9. 19 sayısının, 8 eksiğinin, 5 fazlası kaç yapar?

Çözüm:



10. Parkta 6 erkek çocuk, 8 kız çocuk, 5 tane de yetişkin vardır. Parkta toplam kaç kişi vardır? ?

Çözüm:

