


Adı : .....  
Soyadı: .....

## 2. Sınıf Matematik

## Bölme İşlemi-5

6 balonu 2 çocuğa eşit olarak paylaşınız.



$$6 - 2 = 4 \rightarrow 1. \text{ paylaşırma}$$




$$4 - 2 = 2 \rightarrow 2. \text{ paylaşırma}$$




$$2 - 2 = 0 \rightarrow 3. \text{ paylaşırma}$$

$$6 \div 2 = \dots\dots$$


9 tane havucu 3 tavşana eşit olarak paylaşınız.



$$9 - 3 = 6 \rightarrow 1. \text{ paylaşırma}$$



$$6 - 3 = 3 \rightarrow 2. \text{ paylaşırma}$$



$$3 - 3 = 0 \rightarrow 3. \text{ paylaşırma}$$

$$9 \div 3 = \dots\dots$$

Adı : .....

Soyadı: .....

## 2. Sınıf Matematik

## Bölme İşlemi-5

8 tane elmayı 2 tabağa eşit olarak paylaşınız.



..... - ..... = .....

1. paylaşırma

..... - ..... = .....

2. paylaşırma

..... - ..... = .....

3. paylaşırma

..... - ..... = .....

4. paylaşırma

$$8 \div 2 = \dots\dots\dots$$

12 tane şekeri 3 çocuğa eşit olarak paylaşınız.



..... - ..... = .....

1. paylaşırma

..... - ..... = .....

2. paylaşırma

..... - ..... = .....

3. paylaşırma

..... - ..... = .....

4. paylaşırma

$$12 \div 3 = \dots\dots\dots$$

10 tane çocuğu 2 çadıra eşit olarak paylaşınız.



..... - ..... = .....

1. paylaşırma

..... - ..... = .....

2. paylaşırma

..... - ..... = .....

3. paylaşırma

..... - ..... = .....

4. paylaşırma

..... - ..... = .....

5. paylaşırma

$$10 \div 2 = \dots\dots\dots$$

6 tane karpuzu 3 kasaya eşit olarak paylaşınız.



..... - ..... = .....

1. paylaşırma

..... - ..... = .....

2. paylaşırma

$$6 \div 3 = \dots\dots\dots$$