

1 Sınıfımızda 13 pencere var. 7 tanesi kırıldı. Geriye kaç sağlam pencere kaldı?

Çözüm: Sınıftaki pencere sayısı Kırılan pencere sayısı Sağlam pencere sayısı

2 Babam, Ordu 'dan Ankaraya 9 saatte, oradan da İzmir'e 7 saatte gitti. Babamın yolculuğu toplam kaç saat sürdü?

Çözüm: Ordu'dan Ankaraya Ankaradan İzmir'e Toplam yolculuk saati

3 Vazonun içinde 18 çiçek vardı. 9 tanesi kurduğuna göre geriye kaç tane çiçek kalmıştır?

Çözüm: Vazodaki çiçek sayısı Kuruyan çiçek sayısı Kalan çiçek sayısı

4 Ceren yedi yaşındadır. Aybüke, Ceren'den iki yaş küçüktür. İkisinin yaşları toplamı kaçtır?


Çözüm: Ceren'in yaşı Aybüke'nin yaşı İkisinin toplam yaşı

Problem mi var?

→ Problemleri çözelim. Doğru yanıtı ait yuvarlağı boyayalım.


1. Bir bahçe çitinin uzunluğunu Ayşe 12 kulaç, Ali ise Ayşe'den 5 kulaç daha eksik ölçmüştür. İkisinin ölçümü toplamı kaç kulaçtır?

Çözüm:



2. Ece sırasını 9 karış ölçtü, arkadaşı ise sırayı Ece'den 2 karış eksik ölçtü. İkisinin ölçümü toplamı kaç karıştır ?

Çözüm:



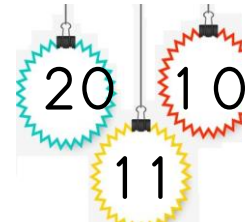
3. Koridorun uzunluğunu Serhat 8 adım, Gökhan ise Serhat'tan 2 adım daha fazla ölçtü. İkisinin ölçümleri toplamı kaç adımdır?

Çözüm:



4. Bir kalemim uzunluğu 15 parmak, silginin uzunluğu ise 5 parmadır. İkisinin farkı kaç parmadır?

Çözüm:



5. Kitabın uzunluğu 8 parmak, kalemin uzunluğu ise 6 parmadır. İkisinin toplam uzunluğu kaç parmadır?

Çözüm:

