



TOPLAMA VE ÇIKARMA İŞLEMİ İLE İLGİLİ PROBLEMLER


1. Annem 16 tane yumurtanın 5 tanesini pişirdi. Geriye kaç tane yumurta kaldı?




2. Salih dün 13 sayfa, bugün 6 sayfa kitap okumuş. Salih iki günde toplam kaç sayfa kitap okumuştur?



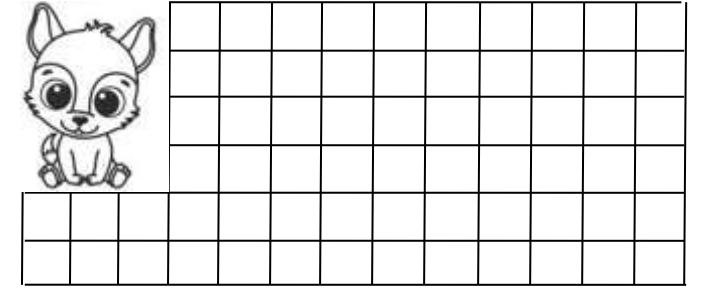
3. Kutuda 25 tane boncuk vardı. Deniz kutuya 12 tane daha boncuk koydu. Kutuda toplam kaç tane boncuk oldu?




4. Betül ve Begüm ikiz kardeşlerdir. Betül 10 yaşında olduğuna göre , ikisinin yaşları toplamı kaçtır?



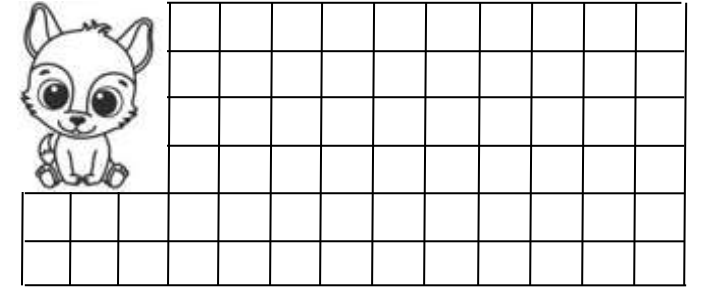
5. Tabakta 14 tane erik vardı. Fatma eriklerin tamamını yedi. Tabakta kaç tane erik kaldı?



6. Hasan 17 yaşındadır. İlke ise Hasan'dan 4 yaş küçüktür. İlke kaç yaşındadır ?



7. Dayımların önce 32 , sonra 5 tane kuzuları doğmuş. Toplam kaç tane kuzu doğmuştur?



8. Kutudaki 48 tane boncuğun 26 tanesi mavi geri kalanı kırmızıdır. Kutuda kaç tane kırmızı boncuk vardır?

