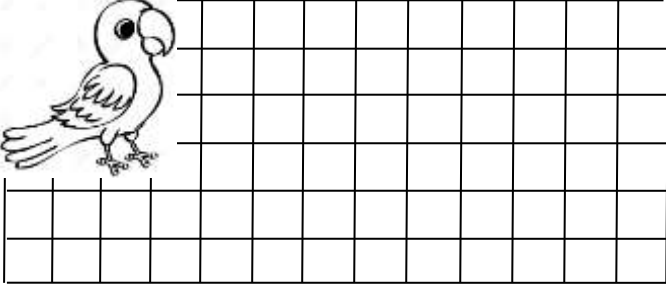



TOPLAMA VE ÇIKARMA İŞLEMİ İLE İLGİLİ PROBLEMLER


1. Recep 37 sayfa olan hikaye kitabının tamamını okumuş. Geriye okuyacağı kaç sayfa kalmıştır?




2. Amcam 48 yaşında. Babam ise amcamdan 5 yaş küçük olduğuna göre, babam kaç yaşındadır?




3. Sınıfımızda 16 tane erkek , 13 tane kız öğrenci var. Sınıfımızda kaç öğrenci vardır?




4. Gamze ile Ceren'in boncuklarının sayısı birbirine eşittir. Gamze'nin 24 tane boncuğu olduğuna göre, ikisinin toplam kaç boncuğu vardır?




5. Soner 28 tane fıncığı var. Meral'in ise fıncıkları Soner'in fıncıklarından 12 azdır. Meral'in kaç tane fıncığı vardır?



6. Kutudaki boncukların 34 tanesini alınca kutuda 23 kaldı. Almadan önce kutuda kaç tane boncuk vardı?



7. Tuncay 20 problem çözünce geriye 36 tane çözülecek problem kalmış. Buna göre problemlerin tamamı kaç taneydi?



8. Deniz'in 39 tane bilyesi vardı. Bilyelerin 7 tanesini kaybetmiş. Geriye kaç tane bilye kalmıştır ?

