

Adı :

Soyadı:









3. Sınıf
Matematik

Tartma-1

Verilen nesnelerin gerçeklerinin kütlelerine uygun kutuyu boyayınız.

 kg g	 kg g	 kg g	 kg g	 kg g	 kg g	 kg g
 kg g	 kg g	 kg g	 kg g	 kg g	 kg g	 kg g
 kg g	 kg g	 kg g	 kg g	 kg g	 kg g	 kg g

Verilen nesnelerin kütlelerini tahmin ederek yazalım.

 450 g	
	 6 kg
	 32 kg
	 4 kg

Adı :

Soyadı:

3. Sınıf
Matematik

Tartma-1

Verilen nesnelerin kütlelerini tahmin ederek yazalım.



75 g



.....



.....



2 kg



.....



750 g



150 g



.....



20 g



.....



80 g



.....



150 gr



.....



220 g



.....



.....



8 kg



50 g



.....



.....



240 g



2 kg



.....



3 kg



.....



250 g



.....



.....



200 g