

Adı :
Soyadı:

3. Sınıf Matematik

Tartma Yaprak Test-1




1 Bütün bir domates 140 g olduğuna göre yukarıdaki domateslerin toplam kütlesi ne kadardır?

- (A) 480 g (B) 465 g (C) 490 g



2 Annem menemen yapmak için 2 domates, 4 yumurta ve 5 tane biber ve 150 g yağ kullanmıştır. Menemenin toplam kütlesi ne kadardır?

- (A) 670 g (B) 650 g (C) 600 g



3 Yukarıdaki muzların ve ananasların kütleleri birbirine eşittir. Muzun bir tanesi 150 g olduğuna göre ananasın bir tanesi kaç gram gelmektedir?

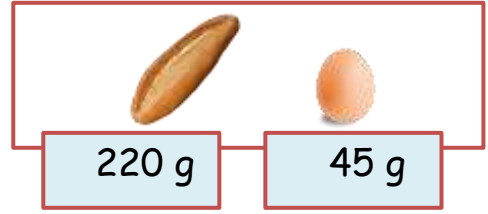
- (A) 400 g (B) 450 g (C) 900 g



200 g

4 Ceylin her gün 3 kaşık şurup içmektedir. Bir kaşık, 20 gram şurup almaktadır. Ceylin 3 gün şurup içtikten sonra şişenin içinde ne kadar şurup kalmıştır?

- (A) 30 g (B) 50 g (C) 20 g



5 Eray acıkınca annesi ona yarım ekmek arasına 2 yumurta haşlayıp koymuştur. Eray'ın yediği yiyeceklerin toplam kütlesi ne kadardır?

- (A) 200 g (B) 180 g (C) 170 g



6 Annem yukarıdaki yiyecekleri 5 tabağa eşit olarak paylaştırmıştır. Her tabağa ne kadar yiyecek koymuştur?

- (A) 150 g (B) 160 g (C) 170 g

Adı :
Soyadı:

3. Sınıf Matematik



Tartma Yaprak Test-1



7 Bir portakalın kütlesi 220 gramdır. Yukarıdaki portakalların toplam kütlesi ne kadardır?

- (A) 900 g (B) 880 g (C) 990 g

8 Aşağıdaki görsellerden hangisinin gerçek kütlesi tahminen 500 gramdan azdır?



9 İşçi 8 kg el arabasında tanesi 2 kg olan tuğlaları taşıyor. İşçi toplam kaç kg yükü itiyor?

- (A) 10 kg (B) 16 kg (C) 18 kg

10 100 gramı 50 kuruş olan biberden yukarıdaki paralarla ne kadar biber alınabilir?

- (A) 600 g (B) 700 g (C) 800 g

11 Cengiz kilogramı 14 TL olan muzdan 3 kg almış ve 50 TL vermiştir. Kaç lira para üstü almalıdır?

- (A) 8 TL (B) 9 TL (C) 7 TL

12 Mehmet her gün 3 kere dişini fırçalıyor. Bir fırçada 15 g macun kullanıyor. Bir haftada ne kadar macun kullanmıştır?

- (A) 305 g (B) 315 g (C) 325 g

Doğru :.....

Yanlış:.....

- | | | | |
|---|-------------|----|-------------|
| 1 | (A) (B) (C) | 7 | (A) (B) (C) |
| 2 | (A) (B) (C) | 8 | (A) (B) (C) |
| 3 | (A) (B) (C) | 9 | (A) (B) (C) |
| 4 | (A) (B) (C) | 10 | (A) (B) (C) |
| 5 | (A) (B) (C) | 11 | (A) (B) (C) |
| 6 | (A) (B) (C) | 12 | (A) (B) (C) |

Adı :

Soyadı:

3. Sınıf
Matematik

Tartma
Yaprak Test-1

Doğru :

Yanlış:.....

- 1 A B C
2 A B C
3 A B C
4 A B C
5 A B C
6 A B C

- 7 A B C
8 A B C
9 A B C
10 A B C
11 A B C
12 A B C