

Adı : .....

Soyadı: .....

### 3. Sınıf Matematik

### Tartma Yaprak Test-2

$$50 \text{ g} = 8 \text{ TL}$$



1 Cemile hanım baharatçıdan 200 gram pul biber almıştır. Ne kadar ödemesi gerekir?


- (A) 32 TL (B) 40 TL (C) 24 TL



2 Bir köylü pazara getirdiği 3 sepet domatesin kilogramını 4 liradan satmıştır. Köylü ne kadar kazanmıştır?

- (A) 346 (B) 326 (C) 336

15 kg daha verirsen benim kütleme eşit olacaksın.



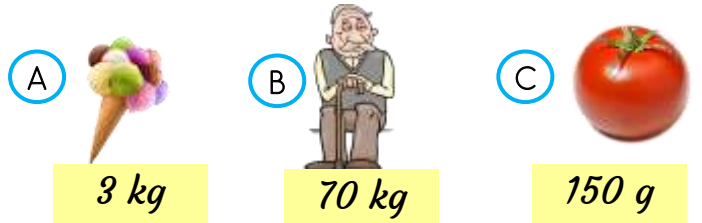
3 Yukarıdaki kız çocuğunun kütlesi 32 kg olduğuna göre iki çocuğun toplam kütlesi ne kadardır?

- (A) 47 kg (B) 79 kg (C) 17 kg

4 Çınar 33 kg'dır. Annesinin kütlesi ise Çınar'ın kütlesinin 2 katından 7 kg daha fazladır. Buna göre Çınar ve annesinin toplam kütlesi kaç kilogramdır?

- (A) 106 kg (B) 73 kg (C) 110 kg

5 Aşağıdakilerden hangisinin kütlesi **yanlış** tahmin edilmiştir?



6 Bir çuval şeker açılarak beşer kilogramlık 17 poşete konuldu. Geriye 3 kilogram şeker arttı. Buna göre torbanın açılmadan önceki kütlesi kaç kilogramdır?

- (A) 82 kg (B) 51 kg (C) 88 kg

Adı : .....

Soyadı: .....

3. Sınıf  
Matematik

Tartma  
Yaprak Test-2

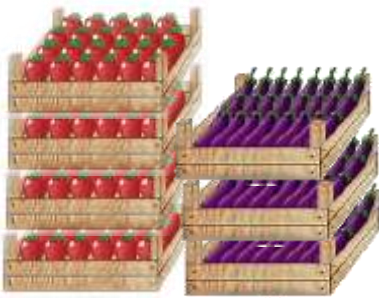


7 Yukarıdaki bütünü 420 gram olan bir pizzanın 4 dilimini yedim. Kaç gram pizza yedim.

- (A) 140 g (B) 280 g (C) 105 g

8 Emine 39 tane boncuğu birleştirerek bir kolye yapmıştır. Boncuklardan tanesi 5 gram olduğuna göre kolyenin kütlesi ne kadardır?

- (A) 185 g (B) 195 g (C) 205 g



9 Bir çiftçi toplam 145 kg domates ve patlıcanı pazara getirdi. Patlıcanların bir kasası 15 kg olduğuna göre domateslerin bir kasası kaç kg gelmektedir?

- (A) 20 kg (B) 25 kg (C) 30 kg



10 Pazara 260 kg patates getiren çiftçinin üçüncü çuvalında kaç kg patates vardır?

- (A) 85 kg (B) 90 kg (C) 95 kg

11 Bir deste kalemin kütlesi 250 gram gelmektedir. Bir tane kalemin kütlesi kaç gramdır?

- (A) 25 g (B) 21 g (C) 22 g

12 Bir bakkal 54 kg 800 g olan bir çuval pirincin 26 kg 800 g'ını satmıştır. Geriye kaç kg kaç g pirinç kalmıştır?

- (A) 32 kg (B) 24 kg (C) 28 kg

Doğru :.....

Yanlış:.....

- |   |             |    |             |
|---|-------------|----|-------------|
| 1 | (A) (B) (C) | 7  | (A) (B) (C) |
| 2 | (A) (B) (C) | 8  | (A) (B) (C) |
| 3 | (A) (B) (C) | 9  | (A) (B) (C) |
| 4 | (A) (B) (C) | 10 | (A) (B) (C) |
| 5 | (A) (B) (C) | 11 | (A) (B) (C) |
| 6 | (A) (B) (C) | 12 | (A) (B) (C) |

Adı : .....

Soyadı: .....

3. Sınıf  
Matematik

Tartma  
Yaprak Test-2

Doğru : .....

Yanlış:.....

- 1  A  B  C  
2  A  B  C  
3  A  B  C  
4  A  B  C  
5  A  B  C  
6  A  B  C

- 7  A  B  C  
8  A  B  C  
9  A  B  C  
10  A  B  C  
11  A  B  C  
12  A  B  C