



## LEOPARLAR

Memeliler sınıfının kediler türüne ait büyük bir kedi türüdür. Leoparların uzun bir kuyruğu vardır. Postları canlı ve parlak renklerde, kırmızımsı sarı üzerine siyah beneklidir. Kar leoparları nerede olurlarsa olsunlar kendilerini sıcak tutmak için kuyruklarını tüylü bir battaniye gibi kullanırlar.

Çok iyi tırmanır hızlı koşar ve uzun sıçırır. Etçilerdir. Besinlerini geyikler, yaban keçileri oluşturur. Sıkıştırılmadıkları süre insanlara saldırmazlar.

**Not:** İlk 3 soruyu metne göre cevaplayınız.

1) Leoparlarla ilgili hangi bilgi **yanlıştır**?

- A) Memeliler sınıfının kediler türüne ait büyük bir kedi türüdür.  
 B) Postları canlı ve parlak renklerde, siyah üzerine kırmızımsı sarı beneklidir.  
 C) Leoparların uzun bir kuyruğu vardır.

2) Kar leoparları nerede olurlarsa olsunlar kendilerini sıcak tutmak için kuyruklarını **ne gibi** kullanırlar?

- A) Yorgan      B) Palto      C) Battaniye

3) Aşağıdakilerden hangisi leoparların yiyebildiği bir hayvan **değildir**?

- A) Aslan      B) Geyik  
 C) Yaban keçisi

4) Hangisinin adı, satır sonunda **bölünebilir**?



5)



Merve

Masalar, kuzular, ağaçlar  
 elmalar, .....

Merve tahtaya, **çoğul isimlerden** beş tane yazacaktır. Aşağıdakilerden hangisi beşinci kelime yerine **yazılabilir**?

- A) Kalem      B) Bardak      C) Göller

6) Aşağıdakilerden hangisinin cümlesinde **sebepe - sonuç** ilişkisi vardır?

- A) Yarın ailece yolculuğa çıkıyoruz.  
 B) Köpeği aniden gördüğüm için korktum.  
 C) Masal kitaplarını daha çok seviyorum.



Arif

Okulumuzda 2. tenefüs beslenme saati olduğu için oyun oynamıyoruz.

Arif, cümlesinde hangi sözcüğü **yanlış** yazmıştır?

- A) tenefüs B) beslenme C) oyun

8) "Ayla, akşam çorbasını içmedi." cümlesi aşağıdaki hangi sorunun yanıtıdır?

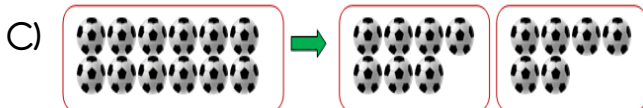
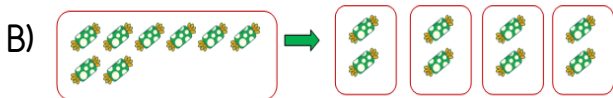
- A) Ayla niçin içmedi ?  
B) Ayla ne içmedi ?  
C) Ayla ne içti ?

$$\begin{array}{r} 18 \quad | \quad 2 \\ - 18 \quad | \quad 9 \\ \hline 0 \end{array}$$

Yandaki bölme işleminin elemanlarından hangisi **yanlıştır**?

- A) Bölüm = 2 B) Bölünen = 18  
C) Kalan = 0

10) Aşağıdaki görsellerin hangisinde bir bölme işlemi **doğru** modellenmiştir?



$$\begin{array}{l} \text{Bölünen} = 12 \\ \text{Bölen} = 3 \\ \text{Bölüm} = 4 \\ \text{Kalan} = 0 \end{array}$$

Yandaki elemanları verilen bölme işlemi aşağıdakilerden **hangisidir**?

A) 
$$\begin{array}{r} 12 \quad | \quad 4 \\ - 3 \quad | \quad 3 \\ \hline 0 \end{array}$$

B) 
$$\begin{array}{r} 4 \quad | \quad 3 \\ - 3 \quad | \quad 12 \\ \hline 0 \end{array}$$

C) 
$$\begin{array}{r} 12 \quad | \quad 3 \\ - 3 \quad | \quad 4 \\ \hline 0 \end{array}$$

12) Aşağıdaki bölme işlemlerinin hangisinde bölüm diğerlerinden **farklıdır**?

A)  $16 \div 4$

B)  $20 \div 5$

C)  $15 \div 3$

13)

1  $8 \div 2 = 4$

2  $21 \div 3 = 6$

3  $12 \div 4 = 4$

4  $16 \div 2 = 8$

Yukarıdaki bölme işlemlerinden hangileri **doğrudur**?

A) 1 ve 4

B) 3 ve 4

C) 1 ve 2

14)

$$18 \div 2 = \heartsuit$$

$$9 \div 3 = \star$$

Yukarıdaki işlemlerine göre " $\heartsuit \div \star$ " işleminin sonucu kaçtır?

A) 2

B) 3

C) 4

15) Aşağıdaki bölme işlemlerinden hangisinin bölüm sayısı daha fazladır?

- A)  $15 \div 3$                       B)  $28 \div 4$   
C)  $18 \div 2$

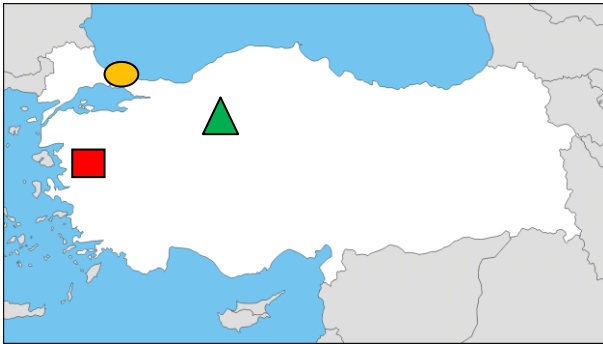
16)






Yukarıdaki haritada ülkemiz hangi rakamla gösterilmiştir?

- A) 1                      B) 2                      C) 4

17)



Yukarıdaki Türkiye haritasında hangi sembol, başkentimizin yerini göstermektedir?

- A)                       B)                       C) 

18) Milli marşımızın adı ve şairi hangi seçenekte doğru olarak verilmiştir?

- A) İstiklal Marşı - Osman Zeki ÜNGÖR  
B) Türkiye Marşı - Mehmet Akif ERSOY  
C) İstiklal Marşı - Mehmet Akif ERSOY

19)

Her bağımsız ülkenin, bir bayrağı ve milli marşı bulunmaktadır.

Bayrağımıza ve milli marşımıza neden saygı gösteririz?

- A) Bayrak ve milli marşımızın atalarımızdan kaldığı için  
B) Bayrak ve milli marşımızın ülkemizin bağımsızlık sembolü olduğu için  
C) Bayrak ve milli marşımızın şehitlerimizi hatırlattığı için

20)

Türk bayrağı ..... ve ..... temsil eder.

Yukarıdaki ifadeye noktalı yere hangisi yazılamaz?

- A) vatani  
B) milleti  
C) insanları

## Cevap Anahtarı

- 1)B 2)C 3)A 4)B 5)C  
6)B 7)A 8)B 9)A 10)B  
11)C 12)C 13)A 14)B 15)C  
16)A 17)B 18)C 19)B 20)C