


## BÖLME İŞLEMİ YAPALIM

1. Etkinlik : Arda ve Suna bölme işlemleri yapmışlar. Ama bazıları doğru bazıları yanlış olmuş. Doğrulara "D", yanlışlara "Y" yazalım.


$$\begin{array}{r} 9 \overline{) 3} \\ \underline{9} \phantom{0} \\ 0 \end{array}$$

...




$$\begin{array}{r} 16 \overline{) 4} \\ \underline{16} \phantom{0} \\ 00 \end{array}$$

...




$$\begin{array}{r} 14 \overline{) 2} \\ \underline{14} \phantom{0} \\ 00 \end{array}$$

...




$$\begin{array}{r} 24 \overline{) 3} \\ \underline{24} \phantom{0} \\ 00 \end{array}$$

...




$$\begin{array}{r} 30 \overline{) 5} \\ \underline{30} \phantom{0} \\ 00 \end{array}$$

...




$$\begin{array}{r} 12 \overline{) 4} \\ \underline{12} \phantom{0} \\ 00 \end{array}$$

...




$$\begin{array}{r} 18 \overline{) 2} \\ \underline{18} \phantom{0} \\ 00 \end{array}$$

...




$$\begin{array}{r} 18 \overline{) 3} \\ \underline{18} \phantom{0} \\ 00 \end{array}$$

...




$$\begin{array}{r} 25 \overline{) 5} \\ \underline{25} \phantom{0} \\ 00 \end{array}$$

...




$$\begin{array}{r} 36 \overline{) 4} \\ \underline{36} \phantom{0} \\ 00 \end{array}$$

...




$$\begin{array}{r} 10 \overline{) 2} \\ \underline{10} \phantom{0} \\ 00 \end{array}$$

...




$$\begin{array}{r} 40 \overline{) 5} \\ \underline{40} \phantom{0} \\ 00 \end{array}$$

...




$$\begin{array}{r} 21 \overline{) 3} \\ \underline{21} \phantom{0} \\ 00 \end{array}$$

...




$$\begin{array}{r} 16 \overline{) 2} \\ \underline{16} \phantom{0} \\ 00 \end{array}$$

...




$$\begin{array}{r} 20 \overline{) 4} \\ \underline{20} \phantom{0} \\ 00 \end{array}$$

...




$$\begin{array}{r} 35 \overline{) 5} \\ \underline{35} \phantom{0} \\ 00 \end{array}$$

...




$$\begin{array}{r} 8 \overline{) 2} \\ \underline{8} \phantom{0} \\ 0 \end{array}$$

...



$$\begin{array}{r} 15 \overline{) 3} \\ \underline{15} \phantom{0} \\ 00 \end{array}$$

...





Doğru Sayısı : ....  
Yanlış Sayısı : ....



Doğru Sayısı : ....  
Yanlış Sayısı : ....