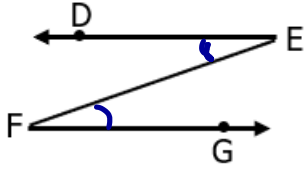


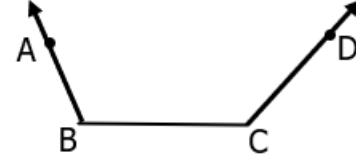


AÇI

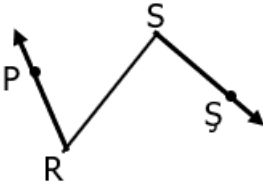
a Şekillerdeki açları örnekteki gibi gösterip köşe ve kenarlarını yazalım.



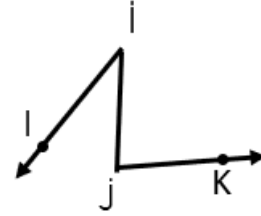
DE kenarı E açısı
EF kenarı F açısı
FG kenarı



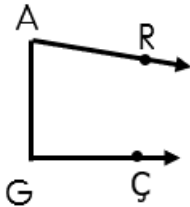
..... kenarı açısı
..... kenarı açısı
..... kenarı



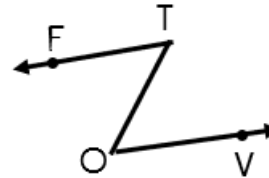
..... kenarı açısı
..... kenarı açısı
..... kenarı



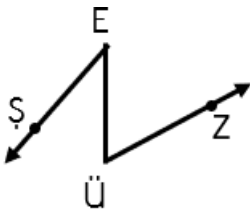
..... kenarı açısı
..... kenarı açısı
..... kenarı



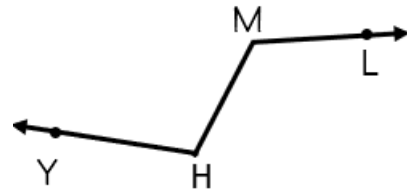
..... kenarı açısı
..... kenarı açısı
..... kenarı



..... kenarı açısı
..... kenarı açısı
..... kenarı



..... kenarı açısı
..... kenarı açısı
..... kenarı



..... kenarı açısı
..... kenarı açısı
..... kenarı