

Çanakkale Diyarında

Denize takılan kilit,
Dünyayı kaldıran yığit,
Alaylar var toptan şehit,
Çanakkale diyarında.

Kahraman şehit çavuşlar,
Şehitliğe uçan kuşlar,
Savaşta yeni buluşlar,
Çanakkale diyarında.




Modern silahlı askerler,
Dersini alan liderler,
Geri kaçarak giderler,
Çanakkale diyarında.

Mermi çarpmış havada,
Tek yumruk aynı davada,
Şehit var, dağda ovada,
Çanakkale diyarında.




Ekrem Şama


1 ve 2. soruları yukarıdaki şiire göre cevaplayınız.

1. 3. dördlük kaç heceden oluşmaktadır?

- a)  32
- b)  31
- c)  30

2. Havada çarpışan neymiş?

- a)  Uçak
- b)  Mermi
- c)  Futbol topu

3.  Yandaki görseli verilen deyim aşağıdakilerden hangisidir?

- a) Gözü arkada kalmak
- b) Gözü yollarda kalmak
- c) Gözünden esirgemek

1. Zavallı kedi soğuktan titriyordu.
2. Eve götürürse annesi kızardı.
3. O da kediyi kömürlüğe götürüp üstünü örttü.
4. Sokağa çıkınca karşısına bir kedi çıktı.

4. Yukarıdaki cümleleri olayların oluş sırasına koyarsak sıralama nasıl olmalıdır ?

- a) 4-2-3-1
- b) 4-1-3-2
- c) 4-1-2-3

"Kendisinden sonra açıklama yapılacak cümlelerin sonuna iki nokta konur."




5. Yukarıdaki bilgiye göre aşağıdaki cümlelerden hangisinin sonuna iki nokta konmalıdır?

- a) Kendimi tanıyayım ()
- b) Sen var ya sen, az değilsin ()
- c) Kalemimi, defterini aldın mı ()

6. Aşağıdaki ifadelerden hangisi hayal ürünü bir anlatım değildir?

- a) Emine, Ay'daki arkadaşlarına selam verdi.
- b) Bulutlar pamuktan elbiselerini giymişti.
- c) Dünya'mız Güneş'in etrafında döner.




7. Aşağıdaki görsellerden hangisinin adı sestesh (eş sesli) bir sözcüktür?

- a) 
- b) 
- c) 

8. Çalışmak için başka bir şehre giden babamın dönmesi için 6 ay, 5 hafta ve 24 gün var. Babamın dönmesi için toplam kaç gün var?

- a)  239
- b)  236
- c)  242

9. Ayça, kumbarasını açtığında 6 tane 50 kuruş, 8 tane 25 kuruş ve 2 tane 1 lirasının eksik olduğunu gördü. Ayça'nın toplam kaç lirası eksiktir?

- a)  b)  c) 

10. Arzu, 320 TL'sinin $\frac{3}{4}$ 'ünü harcadı. Geriye kaç TL'si kaldı?

- a)  b)  c) 

11. Tanesi 140 kr. olan balonlardan 5 tane alan Kağan, kaç TL ödeme yapar?

- a) 7 b) 70 c) 700

12. Sadece hafta sonu günlerinde kumbarasına 48 TL atan Asila, 5 haftanın sonunda kumbarasında kaç TL biriktirmiş olur?

- a)  b)  c) 

13. 8 lirası olan Banuçiçek, parasının 4 lira 45 kuruşu ile kalem aldı. Banuçiçek'in ne kadar parası kalmıştır?

- a) 3 lira 55 kr.
b) 3 lira 45 kr.
c) 3 lira 35 kr.

14. Mehmet, marketten paketi 18 TL olan bisküviden 6 paket, kilogramı 7 TL olan çileklerden 13 kg aldı. Ürünler için satıcıya 250 TL veren Mehmet kaç TL para üstü alır?

- a) 51 b) 50 c) 48

15. Aşağıdaki verilen bilgilerden hangisi yanlıştır?

- a) İlleri valiler yönetir.
b) Köyleri ve mahalleleri yasalarla belirlenen kuralları uygulayarak muhtarlar yönetir.
c) Kaymakamın görevi ilçe gibi yerleşim yerlerinde temizlik, yol, su, elektrik gibi hizmetlerin verilmesini sağlamaktır.

I. Köy II. İl III. İlçe

16. Yukarıda verilen yerleşim yerlerinin küçükten büyüğe doğru sıralaması hangisinde doğru vermiştir?

- a) III-II-I b) I-II-III c) I-III-II

17. Aşağıda verilen bitkinin evrelerinden hangisi diğerlerinden daha önce meydana gelir?

- a) Kendi tohumlarını üretmesi
b) Tohumun çimlenmesi
c) Erişkin bir bitki olması






Yandaki görsel bize neyi anlatmaktadır?

18. a) Yaşam döngüsünü b) Çevre kirliliğini
c) Dengeli beslenmeyi

19. Aşağıdaki evrelerin hangisinden önce su tohumun içine kabuğundaki ufak bir delikten sızar, tohum şişer ve kabuğu çatlar?

- a) Çiçeklenme b) Üreme
c) Çimlenme

20. Bitkiler hangi evreden sonra kendi tohumlarını üretmeye başlar?

- a)  b) 
c) 

CEVAPLAR

Adı Soyadı:

- | | | | | | | | |
|----|---|---|---|----|---|---|---|
| 1 | A | B | C | 11 | A | B | C |
| 2 | A | B | C | 12 | A | B | C |
| 3 | A | B | C | 13 | A | B | C |
| 4 | A | B | C | 14 | A | B | C |
| 5 | A | B | C | 15 | A | B | C |
| 6 | A | B | C | 16 | A | B | C |
| 7 | A | B | C | 17 | A | B | C |
| 8 | A | B | C | 18 | A | B | C |
| 9 | A | B | C | 19 | A | B | C |
| 10 | A | B | C | 20 | A | B | C |

CEVAPLAR

Adı Soyadı:

- | | | | | | | | |
|----|---|---|---|----|---|---|---|
| 1 | A | B | C | 11 | A | B | C |
| 2 | A | B | C | 12 | A | B | C |
| 3 | A | B | C | 13 | A | B | C |
| 4 | A | B | C | 14 | A | B | C |
| 5 | A | B | C | 15 | A | B | C |
| 6 | A | B | C | 16 | A | B | C |
| 7 | A | B | C | 17 | A | B | C |
| 8 | A | B | C | 18 | A | B | C |
| 9 | A | B | C | 19 | A | B | C |
| 10 | A | B | C | 20 | A | B | C |

CEVAPLAR

Adı Soyadı:

- | | | | | | | | |
|----|---|---|---|----|---|---|---|
| 1 | A | B | C | 11 | A | B | C |
| 2 | A | B | C | 12 | A | B | C |
| 3 | A | B | C | 13 | A | B | C |
| 4 | A | B | C | 14 | A | B | C |
| 5 | A | B | C | 15 | A | B | C |
| 6 | A | B | C | 16 | A | B | C |
| 7 | A | B | C | 17 | A | B | C |
| 8 | A | B | C | 18 | A | B | C |
| 9 | A | B | C | 19 | A | B | C |
| 10 | A | B | C | 20 | A | B | C |

1.	A	6.	C	11.	A	16.	C
2.	B	7.	B	12.	B	17.	B
3.	A	8.	A	13.	A	18.	A
4.	C	9.	B	14.	A	19.	A
5.	A	10.	C	15.	C	20.	B

Ömer USLU