

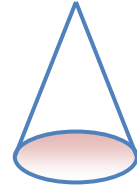
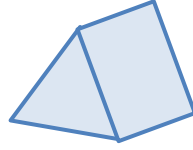
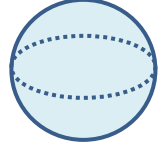


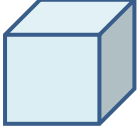
Adı :

Soyadı:

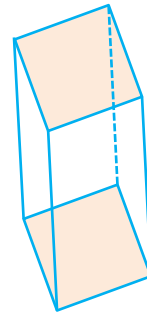
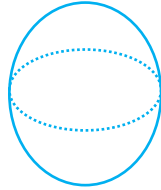
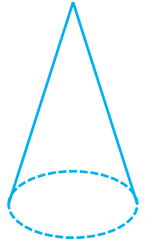
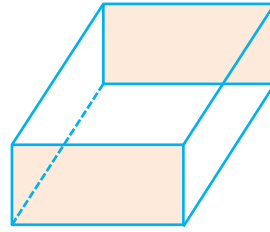

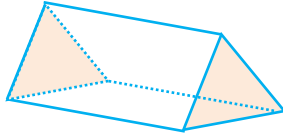
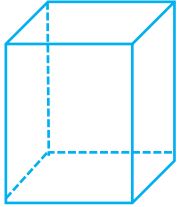
3. Sınıf Matematik

Geometrik Şekiller ve Cisimler-1

Aşağıdaki geometrik cisimlerin isimlerini yazınız.



Aşağıdaki geometrik cisimlerin **köşelerini** işaretleyerek köşe sayısını yazınız.



Geometrik Cisim	Köşe Sayısı
Küp
Kare Prizma
Dikdörtgen Prizma
Üçgen Prizma

Geometrik Cisim	Köşe Sayısı
Küre
Silindir
Koni

Adı :

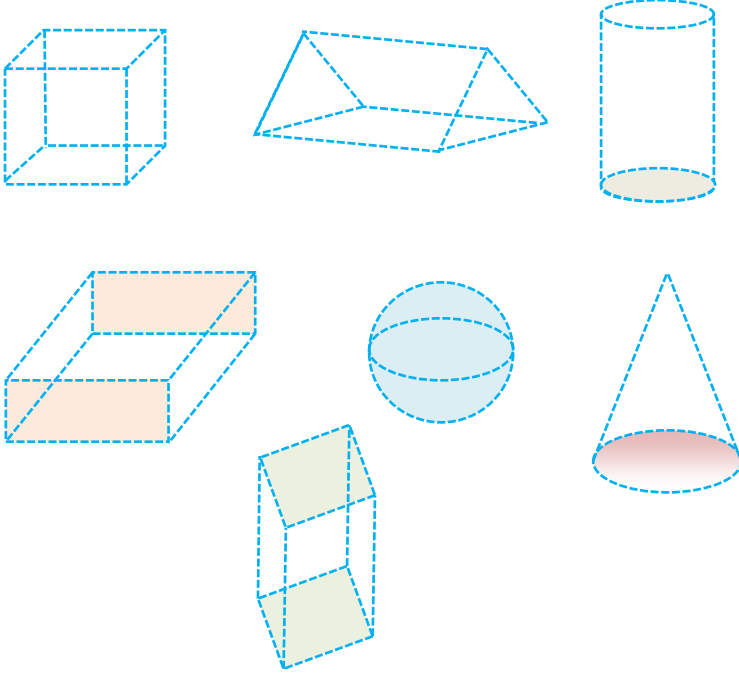
Soyadı:

3. Sınıf Matematik

Geometrik Şekiller ve Cisimler-1

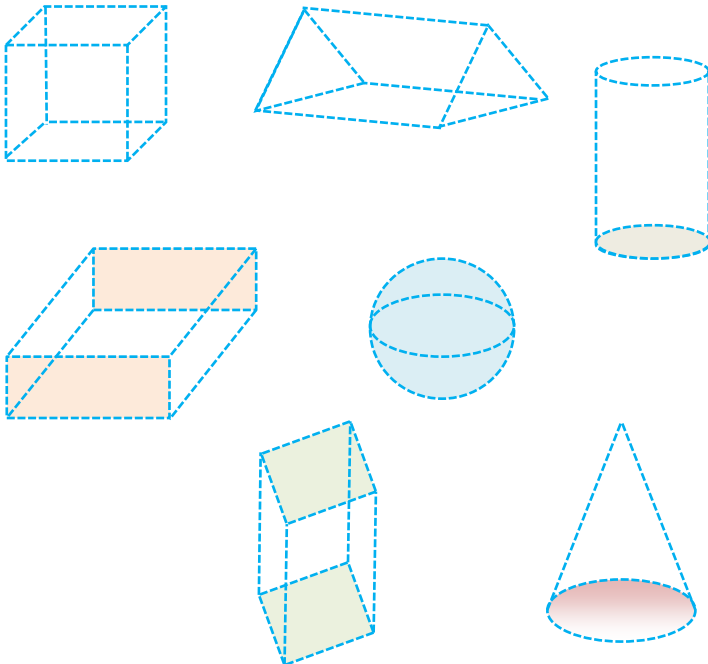
Geometrik cisimlerin **ayrıt**larını kırmızı renkle çiziniz.

Ayrıt: 2 köşeyi birleştiren kenardır. Köşesi olmayan cisimlerin ayrıtı yoktur:



Geometrik Cisim	Ayrıt Sayısı
Küp
Kare Prizma
Dikdörtgen Prizma
Üçgen Prizma
Küre
Silindir
Koni

Geometrik cisimlerin **yüz**lerini kırmızı renkle işaretleyiniz.



Geometrik Cisim	Yüz Sayısı
Küp
Kare Prizma
Dikdörtgen Prizma
Üçgen Prizma
Küre
Silindir
Koni