

Adı :
Soyadı:

2. Sınıf Matematik

Kesirler-3

Varlıkları ortadan iki eş parçaya bölünüz. Kaç tane yarım olduğunu yazınız.



2 bütün
4 yarım



.....
.....



.....
.....



.....
.....



.....
.....



.....
.....



.....
.....



.....
.....

Varlıkları dört eş parçaya bölünüz. Kaç tane çeyrek olduğunu yazınız.



1 bütün
4 çeyrek



.....
.....



.....
.....



.....
.....



.....
.....



.....
.....



.....
.....



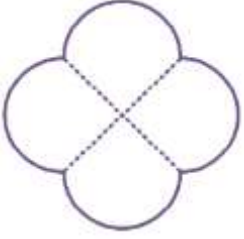
.....
.....

Adı :
Soyadı:

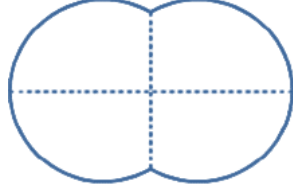
2. Sınıf Matematik

Kesirler-3

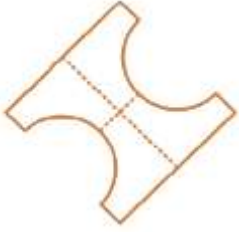
İstene kadarını boyayınız.



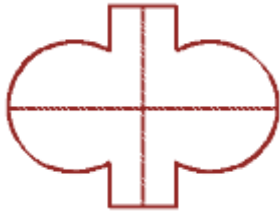
2 tane çeyrek



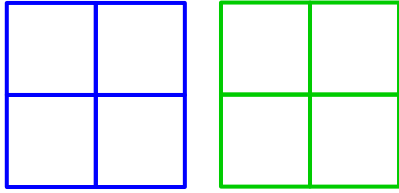
4 tane çeyrek




2 tane yarım




3 tane çeyrek



6 tane çeyrek



5 tane yarım



10 tane çeyrek

Boşlukları doldurunuz.

1 tane bütün =tane yarım eder.

2 tane bütün =tane yarım eder.

3 tane bütün =tane yarım eder.

1 tane bütün =tane çeyrek eder.

2 tane bütün =tane çeyrek eder.

3 tane bütün =tane çeyrek eder.

1 tane yarım =tane çeyrek eder.

2 tane yarım =tane çeyrek eder.

3 tane yarım =tane çeyrek eder.

2 tane yarım =tane bütün eder.

4 tane yarım =tane bütün eder.

4 tane çeyrek =tane yarım eder.

2 tane çeyrek =tane yarım eder.

8 tane çeyrek =tane bütün eder.